

แบบฝึกเพื่อพัฒนาทักษะการคิดเลขเร็ว ชั้นประถมศึกษาปีที่ ๓

เรื่อง

การลบจำนวนสองจำนวน(มีการกระจายสองหลัก)



ชื่อ.....

เลขที่.....ห้อง.....

โรงเรียน.....



การลบจำนวนสองจำนวน(มีการกระจายสองหลัก)

ชื่อ.....ชั้น.....เลขที่.....

คำชี้แจง : จงหาคำตอบ



1.
$$\begin{array}{r} 410 \\ - 242 \\ \hline \end{array}$$

2.
$$\begin{array}{r} 240 \\ - 152 \\ \hline \end{array}$$

3.
$$\begin{array}{r} 910 \\ - 389 \\ \hline \end{array}$$

4.
$$\begin{array}{r} 970 \\ - 581 \\ \hline \end{array}$$

5.
$$\begin{array}{r} 2510 \\ - 398 \\ \hline \end{array}$$


6.
$$\begin{array}{r} 2500 \\ - 650 \\ \hline \end{array}$$

7.
$$\begin{array}{r} 4100 \\ - 340 \\ \hline \end{array}$$

8.
$$\begin{array}{r} 5300 \\ - 1530 \\ \hline \end{array}$$

9.
$$\begin{array}{r} 3210 \\ - 1730 \\ \hline \end{array}$$

10.
$$\begin{array}{r} 9760 \\ - 4890 \\ \hline \end{array}$$



การลบจำนวนสองจำนวน(มีการกระจายสองหลัก)

ชื่อ.....ชั้น.....เลขที่.....

คำชี้แจง : จงหาคำตอบ



1.
$$\begin{array}{r} 620 \\ - 378 \\ \hline \end{array}$$

2.
$$\begin{array}{r} 410 \\ - 282 \\ \hline \end{array}$$

3.
$$\begin{array}{r} 980 \\ - 193 \\ \hline \end{array}$$

4.
$$\begin{array}{r} 350 \\ - 173 \\ \hline \end{array}$$

5.
$$\begin{array}{r} 2520 \\ - 253 \\ \hline \end{array}$$

6.
$$\begin{array}{r} 2800 \\ - 930 \\ \hline \end{array}$$

7.
$$\begin{array}{r} 2100 \\ - 210 \\ \hline \end{array}$$

8.
$$\begin{array}{r} 6200 \\ - 2440 \\ \hline \end{array}$$

9.
$$\begin{array}{r} 7300 \\ - 3650 \\ \hline \end{array}$$

10.
$$\begin{array}{r} 8300 \\ - 7960 \\ \hline \end{array}$$



การลบจำนวนสองจำนวน(มีการกระจายสองหลัก)

ชื่อ.....ชั้น.....เลขที่.....

คำชี้แจง : จงหาผลลบ



1.
$$\begin{array}{r} 310 \\ - 131 \\ \hline \end{array}$$

2.
$$\begin{array}{r} 640 \\ - 466 \\ \hline \end{array}$$

3.
$$\begin{array}{r} 863 \\ - 388 \\ \hline \end{array}$$

4.
$$\begin{array}{r} 564 \\ - 295 \\ \hline \end{array}$$

5.
$$\begin{array}{r} 3710 \\ - 377 \\ \hline \end{array}$$




6.
$$\begin{array}{r} 3620 \\ - 860 \\ \hline \end{array}$$

7.
$$\begin{array}{r} 6530 \\ - 650 \\ \hline \end{array}$$

8.
$$\begin{array}{r} 3240 \\ - 2960 \\ \hline \end{array}$$

9.
$$\begin{array}{r} 6850 \\ - 3980 \\ \hline \end{array}$$

10.
$$\begin{array}{r} 8740 \\ - 4860 \\ \hline \end{array}$$



การลบจำนวนสองจำนวน(มีการกระจายสองหลัก)

ชื่อ.....ชั้น.....เลขที่.....

คำชี้แจง : จงหาผลลบ



1.
$$\begin{array}{r} 820 \\ - 546 \\ \hline \end{array}$$

2.
$$\begin{array}{r} 870 \\ - 385 \\ \hline \end{array}$$

3.
$$\begin{array}{r} 720 \\ - 377 \\ \hline \end{array}$$

4.
$$\begin{array}{r} 240 \\ - 181 \\ \hline \end{array}$$

5.
$$\begin{array}{r} 2950 \\ - 592 \\ \hline \end{array}$$






6.
$$\begin{array}{r} 4110 \\ - 320 \\ \hline \end{array}$$

7.
$$\begin{array}{r} 4740 \\ - 870 \\ \hline \end{array}$$

8.
$$\begin{array}{r} 3400 \\ - 1770 \\ \hline \end{array}$$

9.
$$\begin{array}{r} 6400 \\ - 4780 \\ \hline \end{array}$$

10.
$$\begin{array}{r} 5310 \\ - 3670 \\ \hline \end{array}$$



การลบจำนวนสองจำนวน(มีการกระจายสองหลัก)

ชื่อ.....ชั้น.....เลขที่.....

คำชี้แจง : จงหาคำตอบ



1.
$$\begin{array}{r} 760 \\ - 475 \\ \hline \end{array}$$

2.
$$\begin{array}{r} 310 \\ - 213 \\ \hline \end{array}$$

3.
$$\begin{array}{r} 940 \\ - 672 \\ \hline \end{array}$$

4.
$$\begin{array}{r} 860 \\ - 492 \\ \hline \end{array}$$

5.
$$\begin{array}{r} 2940 \\ - 284 \\ \hline \end{array}$$




6.
$$\begin{array}{r} 4220 \\ - 540 \\ \hline \end{array}$$

7.
$$\begin{array}{r} 5450 \\ - 860 \\ \hline \end{array}$$

8.
$$\begin{array}{r} 4620 \\ - 2940 \\ \hline \end{array}$$

9.
$$\begin{array}{r} 9530 \\ - 5850 \\ \hline \end{array}$$

10.
$$\begin{array}{r} 5240 \\ - 2450 \\ \hline \end{array}$$



การลบจำนวนสองจำนวน(มีการกระจายสองหลัก)

ชื่อ.....ชั้น.....เลขที่.....

คำชี้แจง : จงหาผลลบ



1.
$$\begin{array}{r} 630 \\ - 366 \\ \hline \end{array}$$

2.
$$\begin{array}{r} 540 \\ - 353 \\ \hline \end{array}$$

3.
$$\begin{array}{r} 520 \\ - 241 \\ \hline \end{array}$$

4.
$$\begin{array}{r} 750 \\ - 364 \\ \hline \end{array}$$

5.
$$\begin{array}{r} 2660 \\ - 276 \\ \hline \end{array}$$

6.
$$\begin{array}{r} 5310 \\ - 780 \\ \hline \end{array}$$

7.
$$\begin{array}{r} 6550 \\ - 960 \\ \hline \end{array}$$

8.
$$\begin{array}{r} 5380 \\ - 3590 \\ \hline \end{array}$$

9.
$$\begin{array}{r} 2120 \\ - 1350 \\ \hline \end{array}$$

10.
$$\begin{array}{r} 8140 \\ - 4870 \\ \hline \end{array}$$



การลบจำนวนสองจำนวน(มีการกระจายสองหลัก)

ชื่อ.....ชั้น.....เลขที่.....

คำชี้แจง : จงหาคำตอบ



1.
$$\begin{array}{r} 940 \\ - 497 \\ \hline \end{array}$$

2.
$$\begin{array}{r} 550 \\ - 275 \\ \hline \end{array}$$

3.
$$\begin{array}{r} 820 \\ - 147 \\ \hline \end{array}$$

4.
$$\begin{array}{r} 720 \\ - 552 \\ \hline \end{array}$$

5.
$$\begin{array}{r} 1840 \\ - 484 \\ \hline \end{array}$$


6.
$$\begin{array}{r} 6700 \\ - 990 \\ \hline \end{array}$$

7.
$$\begin{array}{r} 7780 \\ - 890 \\ \hline \end{array}$$

8.
$$\begin{array}{r} 6700 \\ - 4980 \\ \hline \end{array}$$

9.
$$\begin{array}{r} 4430 \\ - 3840 \\ \hline \end{array}$$

10.
$$\begin{array}{r} 6530 \\ - 3670 \\ \hline \end{array}$$



การลบจำนวนสองจำนวน(มีการกระจายสองหลัก)

ชื่อ.....ชั้น.....เลขที่.....

คำชี้แจง : จงหาผลลบ



1.
$$\begin{array}{r} 910 \\ - 835 \\ \hline \end{array}$$

2.
$$\begin{array}{r} 760 \\ - 689 \\ \hline \end{array}$$

3.
$$\begin{array}{r} 830 \\ - 439 \\ \hline \end{array}$$

4.
$$\begin{array}{r} 520 \\ - 362 \\ \hline \end{array}$$

5.
$$\begin{array}{r} 5730 \\ - 451 \\ \hline \end{array}$$

6.
$$\begin{array}{r} 7410 \\ - 640 \\ \hline \end{array}$$

7.
$$\begin{array}{r} 8720 \\ - 870 \\ \hline \end{array}$$

8.
$$\begin{array}{r} 7220 \\ - 6760 \\ \hline \end{array}$$

9.
$$\begin{array}{r} 7560 \\ - 6790 \\ \hline \end{array}$$

10.
$$\begin{array}{r} 6370 \\ - 3780 \\ \hline \end{array}$$



การลบจำนวนสองจำนวน(มีการกระจายสองหลัก)

ชื่อ.....ชั้น.....เลขที่.....

คำชี้แจง : จงหาผลลบ

10

1.
$$\begin{array}{r} 520 \\ - 295 \\ \hline \end{array}$$

2.
$$\begin{array}{r} 920 \\ - 572 \\ \hline \end{array}$$

3.
$$\begin{array}{r} 410 \\ - 164 \\ \hline \end{array}$$

4.
$$\begin{array}{r} 540 \\ - 361 \\ \hline \end{array}$$

5.
$$\begin{array}{r} 5420 \\ - 342 \\ \hline \end{array}$$


6.
$$\begin{array}{r} 8250 \\ - 780 \\ \hline \end{array}$$

7.
$$\begin{array}{r} 9120 \\ - 930 \\ \hline \end{array}$$

8.
$$\begin{array}{r} 8560 \\ - 4880 \\ \hline \end{array}$$

9.
$$\begin{array}{r} 7640 \\ - 3990 \\ \hline \end{array}$$

10.
$$\begin{array}{r} 5210 \\ - 2820 \\ \hline \end{array}$$



การลบจำนวนสองจำนวน(มีการกระจายสองหลัก)

ชื่อ.....ชั้น.....เลขที่.....

คำชี้แจง : จงหาผลลบ



1.
$$\begin{array}{r} 730 \\ - 355 \\ \hline \end{array}$$

2.
$$\begin{array}{r} 950 \\ - 793 \\ \hline \end{array}$$

3.
$$\begin{array}{r} 860 \\ - 594 \\ \hline \end{array}$$

4.
$$\begin{array}{r} 860 \\ - 594 \\ \hline \end{array}$$

5.
$$\begin{array}{r} 3730 \\ - 551 \\ \hline \end{array}$$


6.
$$\begin{array}{r} 3740 \\ - 970 \\ \hline \end{array}$$

7.
$$\begin{array}{r} 3630 \\ - 890 \\ \hline \end{array}$$

8.
$$\begin{array}{r} 5140 \\ - 3450 \\ \hline \end{array}$$

9.
$$\begin{array}{r} 6250 \\ - 4970 \\ \hline \end{array}$$

10.
$$\begin{array}{r} 4120 \\ - 1950 \\ \hline \end{array}$$



*ใช้เพื่อการศึกษาเท่านั้น

