

เพื่อพัฒนาทักษะการคิดเลขเร็ว
ชั้นประถมศึกษาปีที่ 2

การบวกจำนวนสองจำนวนที่มีผลบวกไม่เกิน 5

ชื่อ.....ชั้น.....เลขที่.....



คำชี้แจง : จงหาคำบวก

1. $3 + 0 =$

2. $1 + 1 =$

3. $4 + 1 =$

4. $3 + 1 =$

5. $3 + 2 =$

6. $2 + 2 =$


7. $1 + 2 =$



8. $2 + 3 =$

9. $1 + 3 =$


10. $1 + 4 =$



แบบฝึกเพื่อพัฒนาทักษะการคิดเลขเร็ว ชั้นประถมศึกษาปีที่ 2

เรื่อง

การบวกจำนวนสองจำนวนที่มีผลบวกไม่เกิน 5



ชื่อ.....

เลขที่.....ห้อง.....

โรงเรียน.....











เพื่อพัฒนาทักษะการคิดเลขเร็ว
ชั้นประถมศึกษาปีที่ 2



การบวกจำนวนสองจำนวนที่มีผลบวกไม่เกิน 5

ชื่อ.....ชั้น.....เลขที่.....



คำชี้แจง : จงหาผลบวก

- | | | | | | |
|----|-----------|---|-----|-----------|---|
| 1. | $2 + 0 =$ |  | 6. | $3 + 2 =$ |  |
| 2. | $2 + 1 =$ |  | 7. | $2 + 2 =$ |  |
| 3. | $4 + 1 =$ |  | 8. | $2 + 3 =$ |  |
| 4. | $3 + 1 =$ |  | 9. | $1 + 3 =$ |  |
| 5. | $1 + 2 =$ |  | 10. | $1 + 4 =$ |  |















การบวกจำนวนสองจำนวนที่มีผลบวกไม่เกิน 5

ชื่อ.....ชั้น.....เลขที่.....



คำชี้แจง : จงหาผลบวก

- | | | | |
|--------------|---|---------------|---|
| 1. $0 + 3 =$ |  | 6. $2 + 2 =$ |  |
| 2. $3 + 1 =$ |  | 7. $1 + 2 =$ |  |
| 3. $4 + 1 =$ |  | 8. $2 + 3 =$ |  |
| 4. $1 + 1 =$ |  | 9. $1 + 3 =$ |  |
| 5. $2 + 1 =$ |  | 10. $1 + 4 =$ |  |













การบวกจำนวนสองจำนวนที่มีผลบวกไม่เกิน 5

ชื่อ.....ชั้น.....เลขที่.....



คำชี้แจง : จงหาผลบวก

- 1. $4 + 0 =$ 
- 2. $4 + 1 =$ 
- 3. $3 + 1 =$ 
- 4. $1 + 1 =$ 
- 5. $2 + 1 =$ 

- 6. $1 + 2 =$ 
- 7. $3 + 2 =$ 
- 8. $3 + 2 =$ 
- 9. $1 + 3 =$ 
- 10. $1 + 4 =$ 



การบวกจำนวนสองจำนวนที่มีผลบวกไม่เกิน 5

ชื่อ.....ชั้น.....เลขที่.....



คำชี้แจง : จงหาผลบวก

1. $0 + 2 =$

6. $3 + 2 =$

2. $2 + 1 =$

7. $2 + 2 =$

3. $4 + 1 =$





8. $1 + 2 =$

4. $1 + 1 =$

9. $1 + 3 =$

5. $3 + 1 =$

10. $2 + 3 =$




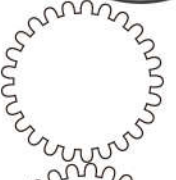
การบวกจำนวนสองจำนวนที่มีผลบวกไม่เกิน 5

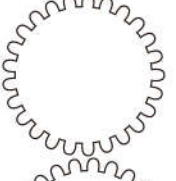
ชื่อ.....ชั้น.....เลขที่.....




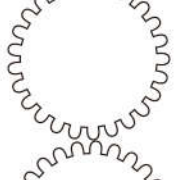
คำชี้แจง : จงหาผลบวก

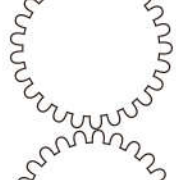
1. $1 + 0 =$ 

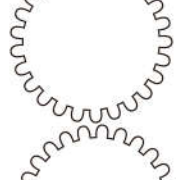
6. $2 + 2 =$ 


2. $1 + 1 =$ 

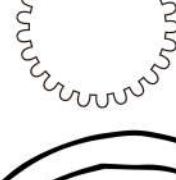
7. $1 + 2 =$ 

3. $4 + 1 =$ 



8. $2 + 3 =$ 

4. $3 + 1 =$ 

9. $1 + 3 =$ 

5. $3 + 2 =$ 

10. $1 + 4 =$ 



*ใช้เพื่อการศึกษาเท่านั้น




การบวกจำนวนสองจำนวนที่มีผลบวกไม่เกิน 5

ชื่อ.....ชั้น.....เลขที่.....



คำชี้แจง : จงหาผลบวก

- | | | | | | |
|----|-----------|--|-----|-----------|--|
| 1. | $0 + 0 =$ | | 6. | $1 + 2 =$ | |
| 2. | $3 + 1 =$ | | 7. | $3 + 2 =$ | |
| 3. | $2 + 1 =$ | | 8. | $1 + 3 =$ | |
| 4. | $4 + 1 =$ | | 9. | $2 + 3 =$ | |
| 5. | $1 + 1 =$ | | 10. | $1 + 4 =$ | |








เพื่อพัฒนาทักษะการคิดเลขเร็ว
ชั้นประถมศึกษาปีที่ 2






การบวกจำนวนสองจำนวนที่มีผลบวกไม่เกิน 5



ชื่อ.....ชั้น.....เลขที่.....



คำชี้แจง : จงหาผลบวก

- 1. $5 + 0 =$ 
- 2. $4 + 1 =$ 
- 3. $3 + 1 =$ 
- 4. $2 + 1 =$ 
- 5. $1 + 1 =$ 

- 6. $2 + 2 =$ 
- 7. $1 + 2 =$ 
- 8. $3 + 2 =$ 
- 9. $2 + 3 =$ 
- 10. $1 + 4 =$ 



เพื่อพัฒนาทักษะการคิดเลขเร็ว
ชั้นประถมศึกษาปีที่ 2

การบวกจำนวนสองจำนวนที่มีผลบวกไม่เกิน 5

ชื่อ..... ชั้น..... เลขที่.....



คำชี้แจง : จงหาคำตอบ

1. $0 + 4 = \square$

2. $2 + 1 = \square$

3. $3 + 1 = \square$

4. $1 + 1 = \square$

5. $2 + 1 = \square$

6. $1 + 2 = \square$

7. $3 + 2 = \square$

8. $2 + 2 = \square$

9. $1 + 3 = \square$

10. $2 + 3 = \square$

*ใช้เพื่อการศึกษาเท่านั้น

