

แบบฝึกเพื่อพัฒนาทักษะการคิดเลขเร็ว
ชั้นประถมศึกษาปีที่ 2

เรื่อง

การลบจำนวนสองจำนวนที่มีผลบวกไม่เกิน 9



ชื่อ.....

เลขที่.....ห้อง.....

โรงเรียน.....

การลบจำนวนสองจำนวนที่มีตัวตั้งไม่เกิน 9



ชื่อ.....ชั้น.....เลขที่.....

คำชี้แจง : จงหาผลลบ

1. $\begin{array}{r} 1 \\ 0 \\ \hline \end{array}$

2. $\begin{array}{r} 2 \\ 0 \\ \hline \end{array}$

3. $\begin{array}{r} 4 \\ 0 \\ \hline \end{array}$

4. $\begin{array}{r} 0 \\ 0 \\ \hline \end{array}$

5. $\begin{array}{r} 1 \\ 1 \\ \hline \end{array}$



6. $\begin{array}{r} 2 \\ 2 \\ \hline \end{array}$

7. $\begin{array}{r} 5 \\ 3 \\ \hline \end{array}$

8. $\begin{array}{r} 4 \\ 1 \\ \hline \end{array}$

9. $\begin{array}{r} 3 \\ 2 \\ \hline \end{array}$

10. $\begin{array}{r} 2 \\ 1 \\ \hline \end{array}$



เพื่อพัฒนาทักษะการคิดเลขเร็ว
ชั้นประถมศึกษาปีที่ 2

การลบจำนวนสองจำนวนที่มีตัวตั้งไม่เกิน 9



ชื่อ.....ชั้น.....เลขที่.....

คำชี้แจง : จงหาผลลบ

1. $\begin{array}{r} 3 \\ - 0 \\ \hline \end{array}$

2. $\begin{array}{r} 4 \\ - 0 \\ \hline \end{array}$

3. $\begin{array}{r} 6 \\ - 0 \\ \hline \end{array}$

4. $\begin{array}{r} 3 \\ - 3 \\ \hline \end{array}$

5. $\begin{array}{r} 4 \\ - 4 \\ \hline \end{array}$


6. $\begin{array}{r} 5 \\ - 5 \\ \hline \end{array}$

7. $\begin{array}{r} 7 \\ - 5 \\ \hline \end{array}$

8. $\begin{array}{r} 4 \\ - 3 \\ \hline \end{array}$

9. $\begin{array}{r} 6 \\ - 2 \\ \hline \end{array}$

10. $\begin{array}{r} 9 \\ - 4 \\ \hline \end{array}$



เพื่อพัฒนาทักษะการคิดเลขเร็ว
ชั้นประถมศึกษาปีที่ 2

การลบจำนวนสองจำนวนที่มีตัวตั้งไม่เกิน 9



ชื่อ.....ชั้น.....เลขที่.....

คำชี้แจง : จงหาผลลบ

1. $5 - 0 =$

2. $6 - 0 =$

3. $8 - 0 =$

4. $6 - 6 =$

5. $7 - 7 =$


6. $8 - 8 =$

7. $5 - 1 =$

8. $7 - 4 =$

9. $6 - 2 =$

10. $7 - 6 =$



*ใช้เพื่อการศึกษาเท่านั้น



เพื่อพัฒนาทักษะการคิดเลขเร็ว
ชั้นประถมศึกษาปีที่ 2

การลบจำนวนสองจำนวนที่มีตัวตั้งไม่เกิน 9

ชื่อ.....ชั้น.....เลขที่.....



คำชี้แจง : จงหาผลลบ

1. $7 - 0 =$

2. $8 - 0 =$

3. $9 - 0 =$

4. $5 - 5 =$

5. $7 - 7 =$


6. $9 - 9 =$

7. $9 - 6 =$

8. $8 - 3 =$

9. $7 - 1 =$

10. $5 - 2 =$



*ใช้เพื่อการศึกษาเท่านั้น



การลบจำนวนสองจำนวนที่มีตัวตั้งไม่เกิน 9

ชื่อ.....ชั้น.....เลขที่.....



คำชี้แจง : จงหาผลลบ

1.
$$\begin{array}{r} 2 \\ - 0 \\ \hline \end{array}$$

2.
$$\begin{array}{r} 5 \\ - 0 \\ \hline \end{array}$$

3.
$$\begin{array}{r} 7 \\ - 0 \\ \hline \end{array}$$

4.
$$\begin{array}{r} 3 \\ - 3 \\ \hline \end{array}$$

5.
$$\begin{array}{r} 4 \\ - 4 \\ \hline \end{array}$$



6.
$$\begin{array}{r} 6 \\ - 6 \\ \hline \end{array}$$

7.
$$\begin{array}{r} 9 \\ - 8 \\ \hline \end{array}$$

8.
$$\begin{array}{r} 8 \\ - 5 \\ \hline \end{array}$$

9.
$$\begin{array}{r} 7 \\ - 2 \\ \hline \end{array}$$

10.
$$\begin{array}{r} 6 \\ - 4 \\ \hline \end{array}$$



เพื่อพัฒนาทักษะการคิดเลขเร็ว
ชั้นประถมศึกษาปีที่ 2

การลบจำนวนสองจำนวนที่มีตัวตั้งไม่เกิน 9

ชื่อ.....ชั้น.....เลขที่.....



คำชี้แจง : จงหาผลลบ

1. $4 - 0 =$

2. $6 - 0 =$

3. $8 - 0 =$

4. $5 - 5 =$

5. $8 - 8 =$





6. $9 - 9 =$

7. $8 - 7 =$

8. $5 - 2 =$

9. $6 - 4 =$

10. $3 - 1 =$



เพื่อพัฒนาทักษะการคิดเลขเร็ว
ชั้นประถมศึกษาปีที่ 2

การลบจำนวนสองจำนวนที่มีตัวตั้งไม่เกิน 9



ชื่อ.....ชั้น.....เลขที่.....

คำชี้แจง : จงหาผลลบ

1. $\begin{array}{r} 3 \\ 0 \\ \hline \end{array}$

2. $\begin{array}{r} 7 \\ 0 \\ \hline \end{array}$

3. $\begin{array}{r} 9 \\ 0 \\ \hline \end{array}$

4. $\begin{array}{r} 0 \\ 0 \\ \hline \end{array}$

5. $\begin{array}{r} 5 \\ 5 \\ \hline \end{array}$



6. $\begin{array}{r} 7 \\ 7 \\ \hline \end{array}$

7. $\begin{array}{r} 6 \\ 1 \\ \hline \end{array}$

8. $\begin{array}{r} 7 \\ 5 \\ \hline \end{array}$

9. $\begin{array}{r} 8 \\ 2 \\ \hline \end{array}$

10. $\begin{array}{r} 9 \\ 3 \\ \hline \end{array}$



ชุดที่
3

แบบฝึก
○○○○○○○○○○○○☆

เพื่อพัฒนาทักษะการคิดเลขเร็ว
ชั้นประถมศึกษาปีที่ 2

หน้าที่
8

การลบจำนวนสองจำนวนที่มีตัวตั้งไม่เกิน 9

ชื่อ.....ชั้น.....เลขที่.....



คำชี้แจง : จงหาผลลบ

1. 3
0 -
□

2. 5
0 -
□

3. 8
0 -
□

4. 0
0 -
□

5. 3
3 -
□





6. 7
7 -
□

7. 5
1 -
□

8. 6
5 -
□

9. 7
1 -
□

10. 9
2 -
□



*ใช้เพื่อการศึกษาเท่านั้น



ชุดที่
3

แบบฝึก
oooooooooooo ☆

หน้าที่
9

เพื่อพัฒนาทักษะการคิดเลขเร็ว
ชั้นประถมศึกษาปีที่ 2

การลบจำนวนสองจำนวนที่มีตัวตั้งไม่เกิน 9

ชื่อ.....ชั้น.....เลขที่.....



คำชี้แจง : จงหาผลลบ

1. $\begin{array}{r} 5 \\ - 0 \\ \hline \end{array}$

2. $\begin{array}{r} 8 \\ - 0 \\ \hline \end{array}$

3. $\begin{array}{r} 9 \\ - 0 \\ \hline \end{array}$

4. $\begin{array}{r} 1 \\ - 1 \\ \hline \end{array}$

5. $\begin{array}{r} 4 \\ - 4 \\ \hline \end{array}$




6. $\begin{array}{r} 6 \\ - 6 \\ \hline \end{array}$

7. $\begin{array}{r} 8 \\ - 1 \\ \hline \end{array}$

8. $\begin{array}{r} 7 \\ - 5 \\ \hline \end{array}$

9. $\begin{array}{r} 6 \\ - 3 \\ \hline \end{array}$

10. $\begin{array}{r} 4 \\ - 1 \\ \hline \end{array}$



*ใช้เพื่อการศึกษาเท่านั้น



ครูอัปเดตดอทคอม
kroupdatedotcom

เพื่อพัฒนาทักษะการคิดเลขเร็ว
ชั้นประถมศึกษาปีที่ 2

การลบจำนวนสองจำนวนที่มีตัวตั้งไม่เกิน 9



ชื่อ.....ชั้น.....เลขที่.....

คำชี้แจง : จงหาผลลบ

1. $\begin{array}{r} 4 \\ 0 \\ \hline \end{array}$

2. $\begin{array}{r} 6 \\ 0 \\ \hline \end{array}$

3. $\begin{array}{r} 9 \\ 0 \\ \hline \end{array}$

4. $\begin{array}{r} 5 \\ 5 \\ \hline \end{array}$

5. $\begin{array}{r} 1 \\ 1 \\ \hline \end{array}$

6. $\begin{array}{r} 9 \\ 9 \\ \hline \end{array}$

7. $\begin{array}{r} 4 \\ 2 \\ \hline \end{array}$

8. $\begin{array}{r} 5 \\ 4 \\ \hline \end{array}$

9. $\begin{array}{r} 9 \\ 8 \\ \hline \end{array}$

10. $\begin{array}{r} 7 \\ 1 \\ \hline \end{array}$

