

# แบบฝึกเพื่อพัฒนาทักษะการคิดเลขเร็ว

## ชั้นประถมศึกษาปีที่ 2

เรื่อง

การบวกและการลบจำนวนสองจำนวนที่มีผลลัพธ์และตัวตั้งไม่เกิน 20



ชื่อ.....

เลขที่.....ห้อง.....

โรงเรียน.....

การบวกและการลบจำนวนสองจำนวนที่มีผลลัพธ์และตัวตั้งไม่เกิน 20

ชื่อ.....ชั้น.....เลขที่.....

คำชี้แจง : จงหาผลลัพธ์



1. 
$$\begin{array}{r} 5 \\ + 4 \\ \hline \end{array}$$

2. 
$$\begin{array}{r} 17 \\ - 0 \\ \hline \end{array}$$

3. 
$$\begin{array}{r} 5 \\ + 0 \\ \hline \end{array}$$

4. 
$$\begin{array}{r} 3 \\ + 0 \\ \hline \end{array}$$

5. 
$$\begin{array}{r} 18 \\ - 9 \\ \hline \end{array}$$

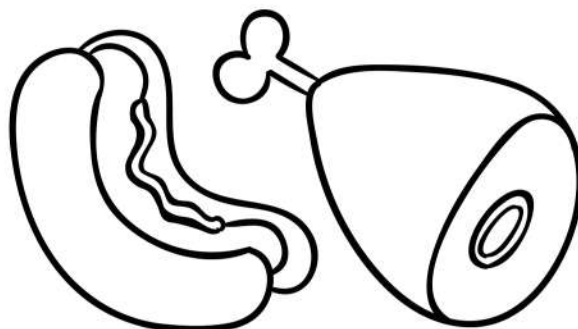
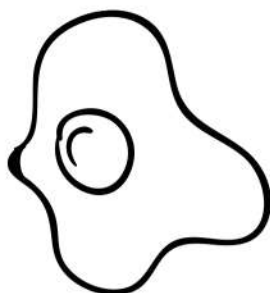
6. 
$$\begin{array}{r} 8 \\ - 3 \\ \hline \end{array}$$

7. 
$$\begin{array}{r} 2 \\ + 14 \\ \hline \end{array}$$

8. 
$$\begin{array}{r} 16 \\ - 9 \\ \hline \end{array}$$

9. 
$$\begin{array}{r} 12 \\ - 6 \\ \hline \end{array}$$

10. 
$$\begin{array}{r} 6 \\ + 9 \\ \hline \end{array}$$



การบวกและการลบจำนวนสองจำนวนที่มีผลลัพธ์และตัวตั้งไม่เกิน 20

ชื่อ.....ชั้น.....เลขที่.....

คำชี้แจง : จงหาผลลัพธ์



$$\begin{array}{r} 1. \quad 7 \\ \quad 2^+ \\ \hline \square \end{array}$$

$$\begin{array}{r} 2. \quad 9 \\ \quad 2^- \\ \hline \square \end{array}$$

$$\begin{array}{r} 3. \quad 13 \\ \quad 0^+ \\ \hline \square \end{array}$$

$$\begin{array}{r} 4. \quad 15 \\ \quad 5^- \\ \hline \square \end{array}$$

$$\begin{array}{r} 5. \quad 9 \\ \quad 9^- \\ \hline \square \end{array}$$




$$\begin{array}{r} 6. \quad 13 \\ \quad 6^- \\ \hline \square \end{array}$$

$$\begin{array}{r} 7. \quad 16 \\ \quad 3^+ \\ \hline \square \end{array}$$

$$\begin{array}{r} 8. \quad 5 \\ \quad 14^+ \\ \hline \square \end{array}$$

$$\begin{array}{r} 9. \quad 8 \\ \quad 6^- \\ \hline \square \end{array}$$

$$\begin{array}{r} 10. \quad 13 \\ \quad 0^+ \\ \hline \square \end{array}$$



การบวกและการลบจำนวนสองจำนวนที่มีผลลัพธ์และตัวตั้งไม่เกิน 20

ชื่อ.....ชั้น.....เลขที่.....

คำชี้แจง : จงหาผลลัพธ์



$$1. \begin{array}{r} 20 \\ - 2 \\ \hline \end{array}$$

$$2. \begin{array}{r} 9 \\ + 2 \\ \hline \end{array}$$

$$3. \begin{array}{r} 13 \\ - 0 \\ \hline \end{array}$$

$$4. \begin{array}{r} 15 \\ + 5 \\ \hline \end{array}$$

$$5. \begin{array}{r} 9 \\ + 9 \\ \hline \end{array}$$



$$6. \begin{array}{r} 13 \\ + 6 \\ \hline \end{array}$$

$$7. \begin{array}{r} 16 \\ - 3 \\ \hline \end{array}$$

$$8. \begin{array}{r} 15 \\ - 14 \\ \hline \end{array}$$

$$9. \begin{array}{r} 8 \\ + 6 \\ \hline \end{array}$$

$$10. \begin{array}{r} 18 \\ - 9 \\ \hline \end{array}$$



การบวกและการลบจำนวนสองจำนวนที่มีผลลัพธ์และตัวตั้งไม่เกิน 20

ชื่อ.....ชั้น.....เลขที่.....

คำชี้แจง : จงหาผลลัพธ์



$$\begin{array}{r}
 1. \quad 5 \\
 \quad + \\
 \quad 4 \\
 \hline
 \square
 \end{array}$$

$$\begin{array}{r}
 2. \quad 17 \\
 \quad - \\
 \quad 0 \\
 \hline
 \square
 \end{array}$$

$$\begin{array}{r}
 3. \quad 9 \\
 \quad + \\
 \quad 9 \\
 \hline
 \square
 \end{array}$$

$$\begin{array}{r}
 4. \quad 13 \\
 \quad - \\
 \quad 8 \\
 \hline
 \square
 \end{array}$$

$$\begin{array}{r}
 5. \quad 17 \\
 \quad + \\
 \quad 2 \\
 \hline
 \square
 \end{array}$$



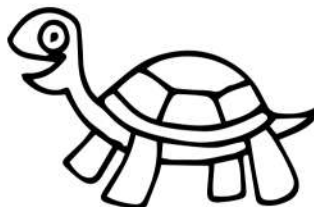
$$\begin{array}{r}
 6. \quad 8 \\
 \quad - \\
 \quad 3 \\
 \hline
 \square
 \end{array}$$

$$\begin{array}{r}
 7. \quad 2 \\
 \quad + \\
 14 \\
 \hline
 \square
 \end{array}$$

$$\begin{array}{r}
 8. \quad 6 \\
 \quad + \\
 \quad 9 \\
 \hline
 \square
 \end{array}$$

$$\begin{array}{r}
 9. \quad 12 \\
 \quad - \\
 \quad 2 \\
 \hline
 \square
 \end{array}$$

$$\begin{array}{r}
 10. \quad 16 \\
 \quad - \\
 \quad 9 \\
 \hline
 \square
 \end{array}$$



เพื่อพัฒนาทักษะการคิดเลขเร็ว  
ชั้นประถมศึกษาปีที่ 2

การบวกและการลบจำนวนสองจำนวนที่มีผลลัพธ์และตัวตั้งไม่เกิน 20

ชื่อ.....ชั้น.....เลขที่.....

คำชี้แจง : จงหาผลลัพธ์



$$\begin{array}{r} 1. \ 15 \\ \quad 2 \\ \hline \end{array}^+$$

$$\begin{array}{r} 2. \ 9 \\ \quad 2 \\ \hline \end{array}^-$$

$$\begin{array}{r} 3. \ 13 \\ \quad 0 \\ \hline \end{array}^-$$

$$\begin{array}{r} 4. \ 15 \\ \quad 5 \\ \hline \end{array}^-$$

$$\begin{array}{r} 5. \ 9 \\ \quad 9 \\ \hline \end{array}^+$$


$$\begin{array}{r} 6. \ 13 \\ \quad 6 \\ \hline \end{array}^-$$

$$\begin{array}{r} 7. \ 16 \\ \quad 3 \\ \hline \end{array}^+$$

$$\begin{array}{r} 8. \ 5 \\ \quad 14 \\ \hline \end{array}^+$$

$$\begin{array}{r} 9. \ 8 \\ \quad 6 \\ \hline \end{array}^-$$

$$\begin{array}{r} 10. \ 13 \\ \quad 6 \\ \hline \end{array}^+$$



การบวกและการลบจำนวนสองจำนวนที่มีผลลัพธ์และตัวตั้งไม่เกิน 20

ชื่อ.....ชั้น.....เลขที่.....

คำชี้แจง : จงหาผลลัพธ์



$$\begin{array}{r} 1. \ 15 \\ + \ 4 \\ \hline \end{array}$$

$$\begin{array}{r} 2. \ 19 \\ - \ 8 \\ \hline \end{array}$$

$$\begin{array}{r} 3. \ 13 \\ - \ 3 \\ \hline \end{array}$$

$$\begin{array}{r} 4. \ 15 \\ - 14 \\ \hline \end{array}$$

$$\begin{array}{r} 5. \ 19 \\ - \ 5 \\ \hline \end{array}$$


$$\begin{array}{r} 6. \ 13 \\ + \ 6 \\ \hline \end{array}$$

$$\begin{array}{r} 7. \ 16 \\ - \ 4 \\ \hline \end{array}$$

$$\begin{array}{r} 8. \ 5 \\ + 12 \\ \hline \end{array}$$

$$\begin{array}{r} 9. \ 8 \\ - \ 2 \\ \hline \end{array}$$

$$\begin{array}{r} 10. \ 13 \\ + \ 4 \\ \hline \end{array}$$



ชุดที่  
6

แบบฝึก  
\*\*\*\*\*☆

เพื่อพัฒนาทักษะการคิดเลขเร็ว  
ชั้นประถมศึกษาปีที่ 2

หน้าที่  
7

การบวกและการลบจำนวนสองจำนวนที่มีผลลัพธ์และตัวตั้งไม่เกิน 20

ชื่อ.....ชั้น.....เลขที่.....

คำชี้แจง : จงหาผลลัพธ์



$$1. \begin{array}{r} 5 \\ + \\ 13 \\ \hline \end{array}$$

$$2. \begin{array}{r} 11 \\ + \\ 9 \\ \hline \end{array}$$

$$3. \begin{array}{r} 13 \\ - \\ 2 \\ \hline \end{array}$$

$$4. \begin{array}{r} 15 \\ + \\ 4 \\ \hline \end{array}$$

$$5. \begin{array}{r} 19 \\ - \\ 2 \\ \hline \end{array}$$

$$6. \begin{array}{r} 19 \\ - \\ 5 \\ \hline \end{array}$$

$$7. \begin{array}{r} 17 \\ + \\ 2 \\ \hline \end{array}$$



$$8. \begin{array}{r} 8 \\ + \\ 10 \\ \hline \end{array}$$

$$9. \begin{array}{r} 9 \\ - \\ 8 \\ \hline \end{array}$$

$$10. \begin{array}{r} 11 \\ + \\ 8 \\ \hline \end{array}$$



\*ใช้เพื่อการศึกษเท่านั้น





การบวกและการลบจำนวนสองจำนวนที่มีผลลัพธ์และตัวตั้งไม่เกิน 20

ชื่อ.....ชั้น.....เลขที่.....

คำชี้แจง : จงหาผลลัพธ์



$$\begin{array}{r} 1. \quad 6 \\ + 12 \\ \hline \end{array}$$

$$\begin{array}{r} 2. \quad 18 \\ - 2 \\ \hline \end{array}$$

$$\begin{array}{r} 3. \quad 18 \\ - 5 \\ \hline \end{array}$$

$$\begin{array}{r} 4. \quad 12 \\ + 5 \\ \hline \end{array}$$

$$\begin{array}{r} 5. \quad 19 \\ - 3 \\ \hline \end{array}$$


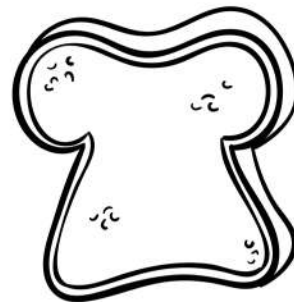


$$\begin{array}{r} 6. \quad 18 \\ - 3 \\ \hline \end{array}$$

$$\begin{array}{r} 7. \quad 15 \\ - 2 \\ \hline \end{array}$$

$$\begin{array}{r} 8. \quad 9 \\ + 10 \\ \hline \end{array}$$

$$\begin{array}{r} 9. \quad 19 \\ - 3 \\ \hline \end{array}$$

$$\begin{array}{r} 10. \quad 12 \\ + 5 \\ \hline \end{array}$$



การบวกและการลบจำนวนสองจำนวนที่มีผลลัพธ์และตัวตั้งไม่เกิน 20

ชื่อ.....ชั้น.....เลขที่.....

คำชี้แจง : จงหาผลลัพธ์



1.  $\begin{array}{r} 16 \\ + \\ 2 \\ \hline \end{array}$

2.  $\begin{array}{r} 6 \\ + \\ 12 \\ \hline \end{array}$

3.  $\begin{array}{r} 17 \\ + \\ 1 \\ \hline \end{array}$

4.  $\begin{array}{r} 14 \\ + \\ 3 \\ \hline \end{array}$

5.  $\begin{array}{r} 18 \\ - \\ 1 \\ \hline \end{array}$


6.  $\begin{array}{r} 4 \\ + \\ 14 \\ \hline \end{array}$

7.  $\begin{array}{r} 14 \\ - \\ 1 \\ \hline \end{array}$

8.  $\begin{array}{r} 15 \\ - \\ 2 \\ \hline \end{array}$

9.  $\begin{array}{r} 19 \\ - \\ 5 \\ \hline \end{array}$

10.  $\begin{array}{r} 14 \\ + \\ 3 \\ \hline \end{array}$



การบวกและการลบจำนวนสองจำนวนที่มีผลลัพธ์และตัวตั้งไม่เกิน 20

ชื่อ.....ชั้น.....เลขที่.....

คำชี้แจง : จงหาผลลัพธ์



1. 
$$\begin{array}{r} 19 \\ - 3 \\ \hline \end{array}$$

2. 
$$\begin{array}{r} 5 \\ + 13 \\ \hline \end{array}$$

3. 
$$\begin{array}{r} 18 \\ - 4 \\ \hline \end{array}$$

4. 
$$\begin{array}{r} 19 \\ - 6 \\ \hline \end{array}$$

5. 
$$\begin{array}{r} 16 \\ - 4 \\ \hline \end{array}$$

6. 
$$\begin{array}{r} 4 \\ + 15 \\ \hline \end{array}$$

7. 
$$\begin{array}{r} 14 \\ + 5 \\ \hline \end{array}$$

8. 
$$\begin{array}{r} 17 \\ + 2 \\ \hline \end{array}$$

9. 
$$\begin{array}{r} 15 \\ - 2 \\ \hline \end{array}$$

10. 
$$\begin{array}{r} 14 \\ + 2 \\ \hline \end{array}$$

