



แบบฝึกเพื่อพัฒนาทักษะการคิดเลขเร็ว

ชั้นประถมศึกษาปีที่ ๑

เรื่อง

การบวกจำนวน 2 จำนวนที่มีผลบวกไม่เกิน ๙

รู้คิดในต
ข
ง่าย
ชีวิตเรื่อง

Easy Life

ชื่อ.....

เลขที่.....ห้อง.....

โรงเรียน.....
















การบวกจำนวน ๒ จำนวนที่มีผลบวกไม่เกิน ๕

ชื่อ.....ชั้น.....เลขที่.....



คำชี้แจง : จงหาผลบวก

- | | | | | | |
|----|-----------|---|-----|-----------|---|
| ๑. | $0 + 1 =$ |  | ๖. | $1 + 2 =$ |  |
| ๒. | $1 + 1 =$ |  | ๗. | $3 + 2 =$ |  |
| ๓. | $3 + 1 =$ |  | ๘. | $2 + 2 =$ |  |
| ๔. | $2 + 1 =$ |  | ๙. | $1 + 3 =$ |  |
| ๕. | $4 + 1 =$ |  | ๑๐. | $2 + 3 =$ |  |



การบวกจำนวน ๒ จำนวนที่มีผลบวกไม่เกิน ๕

ชื่อ.....ชั้น.....เลขที่.....



คำชี้แจง : จงหาผลบวก

๑. $4 + 0 =$

๖. $1 + 2 =$

๒. $4 + 1 =$

๓. $3 + 2 =$

๓. $3 + 1 =$

๔. $2 + 2 =$

๔. $1 + 1 =$

๕. $1 + 3 =$

๕. $2 + 1 =$

๑๐. $1 + 4 =$



การบวกจำนวน ๒ จำนวนที่มีผลบวกไม่เกิน ๕

ชื่อ.....ชั้น.....เลขที่.....



คำชี้แจง : จงหาผลบวก

๑. $0 + 3 =$ 

๖. $2 + 2 =$ 

๒. $3 + 1 =$ 

๓. $1 + 2 =$ 

๓. $4 + 1 =$ 




๔. $2 + 3 =$ 

๔. $1 + 1 =$ 

๕. $1 + 3 =$ 

๕. $2 + 1 =$ 

๑๐. $1 + 4 =$ 



การบวกจำนวน ๒ จำนวนที่มีผลบวกไม่เกิน ๕

ชื่อ.....ชั้น.....เลขที่.....



คำชี้แจง : จงหาผลบวก

๑. $4 + 0 =$

๖. $1 + 2 =$

๒. $4 + 1 =$

๗. $3 + 2 =$

๓. $3 + 1 =$


๘. $2 + 2 =$

๔. $1 + 1 =$

๙. $1 + 3 =$

๕. $2 + 1 =$

๑๐. $1 + 4 =$





การบวกจำนวน ๒ จำนวนที่มีผลบวกไม่เกิน ๕

ชื่อ.....ชั้น.....เลขที่.....



คำชี้แจง : จงหาผลบวก

๑. $0 + 2 =$

๖. $3 + 2 =$

๒. $2 + 1 =$

๓. $2 + 2 =$

๓. $4 + 1 =$




๘. $1 + 2 =$

๔. $1 + 1 =$

๙. $1 + 3 =$

๕. $3 + 1 =$

๑๐. $2 + 3 =$





การบวกจำนวน ๒ จำนวนที่มีผลบวกไม่เกิน ๕

ชื่อ.....ชั้น.....เลขที่.....



คำชี้แจง : จงหาผลบวก

๑. $1 + 0 =$

๖. $2 + 2 =$

๒. $1 + 1 =$

๓. $1 + 2 =$

๓. $4 + 1 =$




๔. $2 + 3 =$

๔. $3 + 1 =$

๕. $1 + 3 =$

๕. $3 + 2 =$

๑๐. $1 + 4 =$





การบวกจำนวน ๒ จำนวนที่มีผลบวกไม่เกิน ๕

ชื่อ.....ชั้น.....เลขที่.....



คำชี้แจง : จงหาผลบวก

๑. $0 + 0 =$

๖. $1 + 2 =$

๒. $3 + 1 =$

๗. $3 + 2 =$

๓. $2 + 1 =$



๘. $1 + 3 =$

๔. $4 + 1 =$

๙. $2 + 3 =$

๕. $1 + 1 =$

๑๐. $1 + 4 =$



การบวกจำนวน ๒ จำนวนที่มีผลบวกไม่เกิน ๕

ชื่อ.....ชั้น.....เลขที่.....



คำชี้แจง : จงหาผลบวก

๑. $5 + 0 =$

๖. $2 + 2 =$

๒. $4 + 1 =$

๓. $1 + 2 =$

๓. $3 + 1 =$




๔. $3 + 2 =$

๔. $2 + 1 =$

๕. $2 + 3 =$

๕. $1 + 1 =$

๑๐. $1 + 4 =$



ชุดที่

๑

แบบฝึก ☆


เพื่อพัฒนาทักษะการคิดเลขเร็ว
ชั้นประถมศึกษาปีที่ ๑

หน้าที่

๓

การบวกจำนวน ๒ จำนวนที่มีผลบวกไม่เกิน ๕

ชื่อ.....ชั้น.....เลขที่.....



คำชี้แจง : จงหาผลบวก

$$\begin{array}{r} ๑. \quad 0 \\ \quad 4^+ \\ \hline \square \\ \hline \end{array}$$

$$\begin{array}{r} ๒. \quad 2 \\ \quad 1^+ \\ \hline \square \\ \hline \end{array}$$

$$\begin{array}{r} ๓. \quad 3 \\ \quad 1^+ \\ \hline \square \\ \hline \end{array}$$

$$\begin{array}{r} ๔. \quad 1 \\ \quad 1^+ \\ \hline \square \\ \hline \end{array}$$

$$\begin{array}{r} ๕. \quad 2 \\ \quad 1^+ \\ \hline \square \\ \hline \end{array}$$


$$\begin{array}{r} ๖. \quad 1 \\ \quad 2^+ \\ \hline \square \\ \hline \end{array}$$

$$\begin{array}{r} ๗. \quad 3 \\ \quad 2^+ \\ \hline \square \\ \hline \end{array}$$

$$\begin{array}{r} ๘. \quad 2 \\ \quad 2^+ \\ \hline \square \\ \hline \end{array}$$

$$\begin{array}{r} ๙. \quad 1 \\ \quad 3^+ \\ \hline \square \\ \hline \end{array}$$

$$\begin{array}{r} ๑๐. \quad 2 \\ \quad 3^+ \\ \hline \square \\ \hline \end{array}$$



*ใช้เพื่อการศึกษาเท่านั้น



ครูอัปเดตดอทคอม
kroupdatedotcom

ชุดที่

๑

แบบฝึก

เพื่อพัฒนาทักษะการคิดเลขเร็ว
ชั้นประถมศึกษาปีที่ ๑


หน้าที่

๑๐

การบวกจำนวน ๒ จำนวนที่มีผลบวกไม่เกิน ๕

ชื่อ.....ชั้น.....เลขที่.....

คำชี้แจง : จงหาผลบวก



๑.
$$\begin{array}{r} 3 \\ + 0 \\ \hline \end{array}$$

๒.
$$\begin{array}{r} 1 \\ + 1 \\ \hline \end{array}$$

๓.
$$\begin{array}{r} 4 \\ + 1 \\ \hline \end{array}$$

๔.
$$\begin{array}{r} 3 \\ + 1 \\ \hline \end{array}$$

๕.
$$\begin{array}{r} 3 \\ + 2 \\ \hline \end{array}$$

๖.
$$\begin{array}{r} 2 \\ + 2 \\ \hline \end{array}$$

๗.
$$\begin{array}{r} 1 \\ + 2 \\ \hline \end{array}$$

๘.
$$\begin{array}{r} 2 \\ + 3 \\ \hline \end{array}$$

๙.
$$\begin{array}{r} 1 \\ + 3 \\ \hline \end{array}$$

๑๐.
$$\begin{array}{r} 1 \\ + 4 \\ \hline \end{array}$$

