

# แบบฝึกเพื่อพัฒนาทักษะการคิดเลขเร็ว

## ชั้นประถมศึกษาปีที่ 2

เรื่อง

การลบจำนวนที่มีสองหลักกับจำนวนที่มีสองหลัก



ชื่อ.....

เลขที่.....ห้อง.....

โรงเรียน.....

ชุดที่  
10

แบบฝึก ☆  
oooooooooooo

เพื่อพัฒนาทักษะการคิดเลขเร็ว  
ชั้นประถมศึกษาปีที่ 2

หน้าที่  
1

การลบจำนวนที่มีสองหลักกับจำนวนที่มีสองหลัก

ชื่อ.....ชั้น.....เลขที่.....

คำชี้แจง : จงหาผลลบ



$$\begin{array}{r} 1. \ 28 \\ -12 \\ \hline \square \end{array}$$

$$\begin{array}{r} 2. \ 98 \\ -15 \\ \hline \square \end{array}$$

$$\begin{array}{r} 3. \ 59 \\ -20 \\ \hline \square \end{array}$$

$$\begin{array}{r} 4. \ 87 \\ -24 \\ \hline \square \end{array}$$

$$\begin{array}{r} 5. \ 41 \\ -31 \\ \hline \square \end{array}$$

$$\begin{array}{r} 6. \ 42 \\ -41 \\ \hline \square \end{array}$$

$$\begin{array}{r} 7. \ 51 \\ -50 \\ \hline \square \end{array}$$

$$\begin{array}{r} 8. \ 61 \\ -60 \\ \hline \square \end{array}$$

$$\begin{array}{r} 9. \ 72 \\ -70 \\ \hline \square \end{array}$$

$$\begin{array}{r} 10. \ 81 \\ -80 \\ \hline \square \end{array}$$



\*ใช้เพื่อการศึกษาเท่านั้น



ครูอัปเดตดอทคอม  
kroupdatedotcom

## การลบจำนวนที่มีสองหลักกับจำนวนที่มีสองหลัก

ชื่อ.....ชั้น.....เลขที่.....

คำชี้แจง : จงหาผลลบ



$$\begin{array}{r} 1. \quad 28 \\ \quad 12 \\ \hline \square \end{array}$$

$$\begin{array}{r} 2. \quad 98 \\ \quad 15 \\ \hline \square \end{array}$$

$$\begin{array}{r} 3. \quad 59 \\ \quad 20 \\ \hline \square \end{array}$$

$$\begin{array}{r} 4. \quad 87 \\ \quad 24 \\ \hline \square \end{array}$$

$$\begin{array}{r} 5. \quad 41 \\ \quad 31 \\ \hline \square \end{array}$$


$$\begin{array}{r} 6. \quad 42 \\ \quad 41 \\ \hline \square \end{array}$$

$$\begin{array}{r} 7. \quad 51 \\ \quad 50 \\ \hline \square \end{array}$$

$$\begin{array}{r} 8. \quad 61 \\ \quad 60 \\ \hline \square \end{array}$$

$$\begin{array}{r} 9. \quad 72 \\ \quad 70 \\ \hline \square \end{array}$$

$$\begin{array}{r} 10. \quad 81 \\ \quad 80 \\ \hline \square \end{array}$$



## การลบจำนวนที่มีสองหลักกับจำนวนที่มีสองหลัก

ชื่อ.....ชั้น.....เลขที่.....

คำชี้แจง : จงหาผลลบ



$$\begin{array}{r} 1. \quad 77 \\ \quad 13 \\ \hline \square \end{array}$$

$$\begin{array}{r} 2. \quad 88 \\ \quad 11 \\ \hline \square \end{array}$$

$$\begin{array}{r} 3. \quad 43 \\ \quad 20 \\ \hline \square \end{array}$$

$$\begin{array}{r} 4. \quad 52 \\ \quad 20 \\ \hline \square \end{array}$$

$$\begin{array}{r} 5. \quad 64 \\ \quad 33 \\ \hline \square \end{array}$$

$$\begin{array}{r} 6. \quad 63 \\ \quad 43 \\ \hline \square \end{array}$$

$$\begin{array}{r} 7. \quad 73 \\ \quad 63 \\ \hline \square \end{array}$$

$$\begin{array}{r} 8. \quad 73 \\ \quad 63 \\ \hline \square \end{array}$$

$$\begin{array}{r} 9. \quad 75 \\ \quad 74 \\ \hline \square \end{array}$$

$$\begin{array}{r} 10. \quad 91 \\ \quad 81 \\ \hline \square \end{array}$$



การลบจำนวนที่มีสองหลักกับจำนวนที่มีสองหลัก



ชื่อ..... ชั้น..... เลขที่.....

คำชี้แจง : จงหาผลลบ

1. 
$$\begin{array}{r} 86 \\ - 10 \\ \hline \square \end{array}$$

2. 
$$\begin{array}{r} 73 \\ - 13 \\ \hline \square \end{array}$$

3. 
$$\begin{array}{r} 88 \\ - 21 \\ \hline \square \end{array}$$

4. 
$$\begin{array}{r} 44 \\ - 22 \\ \hline \square \end{array}$$

5. 
$$\begin{array}{r} 75 \\ - 34 \\ \hline \square \end{array}$$


6. 
$$\begin{array}{r} 74 \\ - 40 \\ \hline \square \end{array}$$

7. 
$$\begin{array}{r} 63 \\ - 53 \\ \hline \square \end{array}$$

8. 
$$\begin{array}{r} 74 \\ - 62 \\ \hline \square \end{array}$$

9. 
$$\begin{array}{r} 86 \\ - 75 \\ \hline \square \end{array}$$

10. 
$$\begin{array}{r} 96 \\ - 83 \\ \hline \square \end{array}$$



\*ใช้เพื่อการศึกษาเท่านั้น

## การลบจำนวนที่มีสองหลักกับจำนวนที่มีสองหลัก

ชื่อ.....ชั้น.....เลขที่.....

คำชี้แจง : จงหาผลลบ



$$\begin{array}{r} 1. \ 57 \\ - 14 \\ \hline \end{array}$$

$$\begin{array}{r} 2. \ 83 \\ - 12 \\ \hline \end{array}$$

$$\begin{array}{r} 3. \ 84 \\ - 24 \\ \hline \end{array}$$

$$\begin{array}{r} 4. \ 72 \\ - 21 \\ \hline \end{array}$$

$$\begin{array}{r} 5. \ 86 \\ - 35 \\ \hline \end{array}$$



$$\begin{array}{r} 6. \ 85 \\ - 42 \\ \hline \end{array}$$

$$\begin{array}{r} 7. \ 74 \\ - 54 \\ \hline \end{array}$$

$$\begin{array}{r} 8. \ 78 \\ - 67 \\ \hline \end{array}$$

$$\begin{array}{r} 9. \ 87 \\ - 72 \\ \hline \end{array}$$

$$\begin{array}{r} 10. \ 85 \\ - 84 \\ \hline \end{array}$$



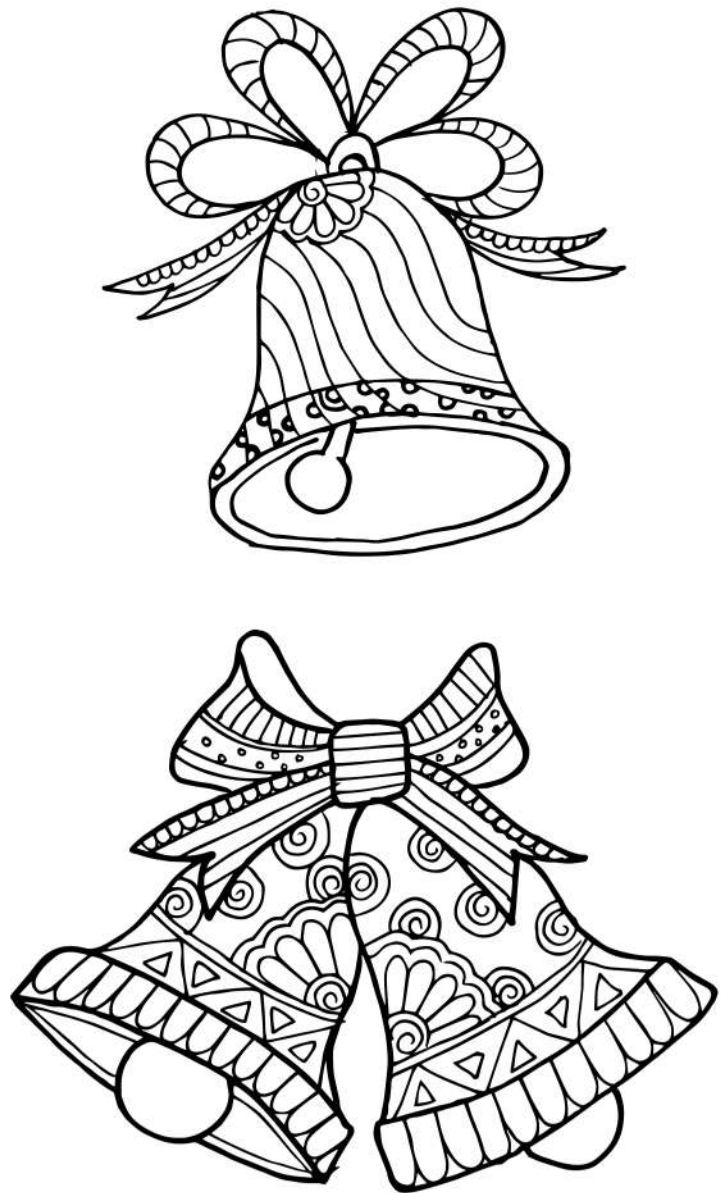
การลบจำนวนที่มีสองหลักกับจำนวนที่มีสองหลัก

ชื่อ.....ชั้น.....เลขที่.....



คำชี้แจง : จงหาผลลบ

- 1.  $78 - 18 =$
- 2.  $85 - 11 =$
- 3.  $89 - 20 =$
- 4.  $24 - 21 =$
- 5.  $96 - 36 =$
- 6.  $86 - 56 =$
- 7.  $75 - 55 =$
- 8.  $88 - 64 =$
- 9.  $88 - 78 =$
- 10.  $87 - 82 =$



## การลบจำนวนที่มีสองหลักกับจำนวนที่มีสองหลัก

ชื่อ.....ชั้น.....เลขที่.....



คำชี้แจง : จงหาผลลบ

1.  $74 - 13 =$
2.  $83 - 12 =$
3.  $67 - 21 =$
4.  $33 - 22 =$
5.  $31 - 30 =$
6.  $97 - 45 =$
7.  $86 - 56 =$
8.  $85 - 65 =$
9.  $93 - 73 =$
10.  $93 - 82 =$






## การลบจำนวนที่มีสองหลักกับจำนวนที่มีสองหลัก

ชื่อ.....ชั้น.....เลขที่.....



คำชี้แจง : จงหาผลลบ

1.  $67 - 10 =$
2.  $77 - 12 =$
3.  $89 - 22 =$
4.  $92 - 21 =$
5.  $35 - 32 =$
6.  $98 - 47 =$
7.  $97 - 57 =$
8.  $97 - 67 =$
9.  $96 - 76 =$
10.  $99 - 85 =$



การลบจำนวนที่มีสองหลักกับจำนวนที่มีสองหลัก

ชื่อ.....ชั้น.....เลขที่.....



คำชี้แจง : จงหาผลลบ

- 1. 18 - 10 =
- 2. 28 - 12 =
- 3. 27 - 20 =
- 4. 47 - 27 =
- 5. 57 - 32 =
- 6. 44 - 40 =
- 7. 79 - 53 =
- 8. 66 - 64 =
- 9. 79 - 70 =
- 10. 99 - 88 =



## การลบจำนวนที่มีสองหลักกับจำนวนที่มีสองหลัก

ชื่อ.....ชั้น.....เลขที่.....



คำชี้แจง : จงหาผลลบ

1.  $57 - 14 =$
2.  $67 - 11 =$
3.  $48 - 22 =$
4.  $65 - 23 =$
5.  $89 - 30 =$
6.  $59 - 40 =$
7.  $77 - 51 =$
8.  $66 - 63 =$
9.  $79 - 72 =$
10.  $98 - 81 =$

