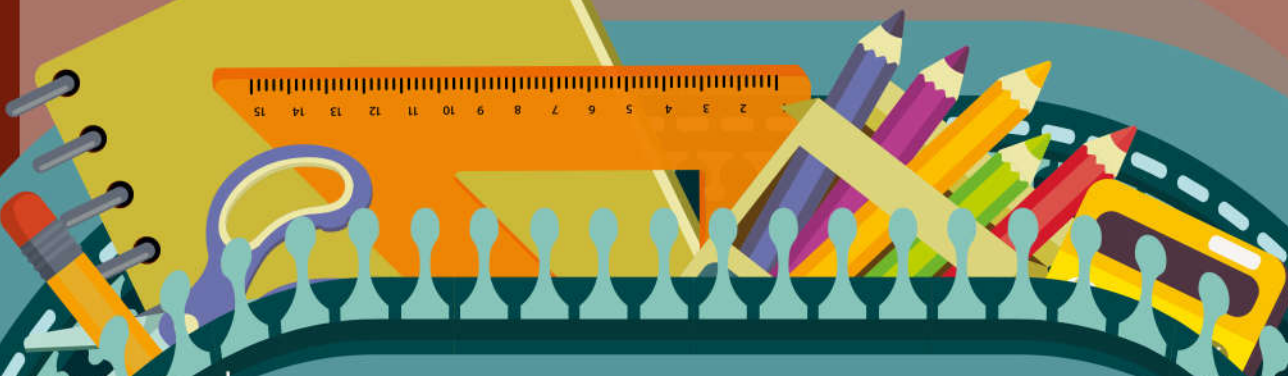


แบบฝึกเพื่อพัฒนาทักษะการคิดเลขเร็ว ชั้นประถมศึกษาปีที่ 2

เรื่อง

การบวก ลบ ระคน (1)



ชื่อ.....

เลขที่.....ห้อง.....

โรงเรียน.....



แบบฝึก
ooooooooooooo ☆

เพื่อพัฒนาทักษะการคิดเลขเร็ว
ชั้นประถมศึกษาปีที่ 2




การบวก ลบ ระคน


ชื่อ.....ชั้น.....เลขที่.....




คำชี้แจง : จงหาผลลัพธ์

1. $(6 + 4) + 5 =$
2. $(7 + 2) - 3 =$
3. $(11 + 15) + 3 =$
4. $(35 + 20) - 8 =$
5. $(11 + 22) + 35 =$
6. $(60 - 40) - 20 =$
7. $(50 + 20) - 10 =$
8. $(23 - 12) + 16 =$
9. $85 - (20 + 15) =$
10. $16 + (11 - 10) =$





แบบฝึก
 เพื่อพัฒนาทักษะการคิดเลขเร็ว
 ชั้นประถมศึกษาปีที่ 2



การบวก ลบ ระคน


ชื่อ.....ชั้น.....เลขที่.....



คำชี้แจง : จงหาผลลัพธ์


1. $6 - (2 + 3) =$
2. $10 + (8 + 2) =$
3. $(12 + 14) - 4 =$
4. $(15 + 12) - 5 =$
5. $43 + (30 + 16) =$
6. $30 - (25 - 15) =$
7. $(42 + 13) - 12 =$
8. $(84 - 12) + 10 =$
9. $55 - (42 + 10) =$
10. $33 + (26 - 12) =$





แบบฝึก
ooooooooooooo ☆

เพื่อพัฒนาทักษะการคิดเลขเร็ว
ชั้นประถมศึกษาปีที่ 2



การบวก ลบ ระคน


ชื่อ.....ชั้น.....เลขที่.....




คำชี้แจง : จงหาผลลัพธ์

1. $(3 + 4) + 3 =$
2. $(6 + 4) - 5 =$
3. $(11 + 20) + 7 =$
4. $(40 + 16) - 3 =$
5. $(42 + 22) + 10 =$
6. $(68 - 10) - 11 =$
7. $(42 + 12) - 22 =$
8. $(59 - 14) + 32 =$
9. $86 - (22 + 42) =$
10. $20 + (50 - 40) =$





แบบฝึก
 เพื่อพัฒนาทักษะการคิดเลขเร็ว
 ชั้นประถมศึกษาปีที่ 2



การบวก ลบ ระคน

ชื่อ.....ชั้น.....เลขที่.....



คำชี้แจง : จงหาผลลัพธ์

1. $2 + (3 + 5) =$
2. $(4 + 5) - 8 =$
3. $(13 + 42) + 4 =$
4. $(55 + 10) - 5 =$
5. $30 + (25 + 20) =$
6. $75 - (35 - 13) =$
7. $(55 + 20) - 10 =$
8. $(44 - 12) + 12 =$
9. $60 - (25 + 25) =$
10. $54 + (12 - 10) =$

