

แบบฝึกเพื่อพัฒนาทักษะการคิดเลขเร็ว

ชั้นประถมศึกษาปีที่ 5

เรื่อง

การลบจำนวนที่มีหลายหลัก 2 จำนวน



ชื่อ.....

เลขที่.....ห้อง.....

โรงเรียน.....

เพื่อพัฒนาทักษะการคิดเลขเร็ว
ชั้นประถมศึกษาปีที่ 5

การลบจำนวนที่มีหลายหลัก 2 จำนวน

ชื่อ.....ชั้น.....เลขที่.....



คำชี้แจง : จงหาผลลบ

1.
$$\begin{array}{r} 46 \\ - 35 \\ \hline \end{array}$$

2.
$$\begin{array}{r} 38 \\ - 26 \\ \hline \end{array}$$

3.
$$\begin{array}{r} 108 \\ - 46 \\ \hline \end{array}$$

4.
$$\begin{array}{r} 273 \\ - 54 \\ \hline \end{array}$$

5.
$$\begin{array}{r} 232 \\ - 114 \\ \hline \end{array}$$



6.
$$\begin{array}{r} 238 \\ - 174 \\ \hline \end{array}$$

7.
$$\begin{array}{r} 418 \\ - 263 \\ \hline \end{array}$$

8.
$$\begin{array}{r} 2186 \\ - 1143 \\ \hline \end{array}$$

9.
$$\begin{array}{r} 3156 \\ - 2432 \\ \hline \end{array}$$

10.
$$\begin{array}{r} 3433 \\ - 2224 \\ \hline \end{array}$$



การลบจำนวนที่มีหลายหลัก 2 จำนวน

ชื่อ.....ชั้น.....เลขที่.....



คำชี้แจง : จงหาผลลบ

1.
$$\begin{array}{r} 59 \\ - 38 \\ \hline \end{array}$$

2.
$$\begin{array}{r} 49 \\ - 23 \\ \hline \end{array}$$

3.
$$\begin{array}{r} 673 \\ - 66 \\ \hline \end{array}$$

4.
$$\begin{array}{r} 374 \\ - 55 \\ \hline \end{array}$$

5.
$$\begin{array}{r} 466 \\ - 172 \\ \hline \end{array}$$




6.
$$\begin{array}{r} 334 \\ - 162 \\ \hline \end{array}$$

7.
$$\begin{array}{r} 539 \\ - 396 \\ \hline \end{array}$$

8.
$$\begin{array}{r} 8427 \\ - 5226 \\ \hline \end{array}$$

9.
$$\begin{array}{r} 5662 \\ - 4355 \\ \hline \end{array}$$

10.
$$\begin{array}{r} 7356 \\ - 4823 \\ \hline \end{array}$$



การลบจำนวนที่มีหลายหลัก 2 จำนวน

ชื่อ.....ชั้น.....เลขที่.....



คำชี้แจง : จงหาผลลบ

1. $57 - 26 =$

2. $74 - 32 =$

3. $273 - 54 =$

4. $335 - 58 =$

5. $463 - 226 =$


6. $436 + 268 =$

7. $625 + 349 =$

8. $6733 + 4512 =$

9. $5460 + 3008 =$

10. $6459 + 3636 =$



*ใช้เพื่อการศึกษาเท่านั้น



เพื่อพัฒนาทักษะการคิดเลขเร็ว
ชั้นประถมศึกษาปีที่ 5

การลบจำนวนที่มีหลายหลัก 2 จำนวน

ชื่อ.....ชั้น.....เลขที่.....



คำชี้แจง : จงหาค่าลบ

1. $59 - 27 =$

2. $87 - 35 =$

3. $328 - 96 =$

4. $251 - 33 =$

5. $442 - 214 =$


6. $546 + 374 =$

7. $825 + 343 =$

8. $5328 + 4126 =$

9. $4638 + 2509 =$

10. $5234 + 4622 =$



*ใช้เพื่อการศึกษาเท่านั้น



การลบจำนวนที่มีหลายหลัก 2 จำนวน

ชื่อ.....ชั้น.....เลขที่.....



คำชี้แจง : จงหาผลลบ

1. $88 - 53 =$

2. $69 - 37 =$

3. $506 - 35 =$

4. $542 - 38 =$

5. $519 - 187 =$


6. $408 + 326 =$

7. $343 + 125 =$

8. $6628 + 4527 =$

9. $6372 + 4265 =$

10. $7156 + 3524 =$



*ใช้เพื่อการศึกษาเท่านั้น



การลบจำนวนที่มีหลายหลัก 2 จำนวน

ชื่อ.....ชั้น.....เลขที่.....



คำชี้แจง : จงหาผลลบ

1. $88 - 62 =$

2. $74 - 32 =$

3. $239 - 52 =$

4. $245 - 37 =$

5. $623 - 228 =$


6. $516 + 275 =$

7. $639 + 276 =$

8. $4135 + 3124 =$

9. $7484 + 5367 =$

10. $9344 + 5732 =$



*ใช้เพื่อการศึกษาเท่านั้น

