



แบบฝึกเพื่อพัฒนาทักษะการคิดเลขเร็ว

ชั้นประถมศึกษาปีที่ ๑



การบวกจำนวน 2 จำนวนที่มีผลบวกไม่เกิน ๙




Easy Life Mathematics

ชื่อ.....


เลขที่.....ห้อง.....

โรงเรียน.....













การบวกจำนวน ๒ จำนวนที่มีผลบวกไม่เกิน ๓

ชื่อ.....ชั้น.....เลขที่.....



คำชี้แจง : จงหาผลบวก

- | | | | | | |
|----|-----------|---|-----|-----------|---|
| ๑. | $6 + 0 =$ |  | ๖. | $6 + 2 =$ |  |
| ๒. | $2 + 1 =$ |  | ๓. | $4 + 4 =$ |  |
| ๓. | $1 + 4 =$ |  | ๔. | $5 + 4 =$ |  |
| ๔. | $5 + 1 =$ |  | ๕. | $1 + 6 =$ |  |
| ๕. | $4 + 2 =$ |  | ๑๐. | $2 + 6 =$ |  |



การบวกจำนวน ๒ จำนวนที่มีผลบวกไม่เกิน ๙


ชื่อ.....ชั้น.....เลขที่.....

คำชี้แจง : จงหาผลบวก




๑. $0 + 6 =$ 


๖. $3 + 3 =$ 

๒. $3 + 2 =$ 


๓. $2 + 4 =$ 


๓. $3 + 1 =$ 







๔. $1 + 5 =$ 

๔. $6 + 1 =$ 

๙. $3 + 6 =$ 

๕. $5 + 2 =$ 

๑๐. $1 + 7 =$ 













เพื่อพัฒนาทักษะการคิดเลขเร็ว
ชั้นประถมศึกษาปีที่ ๑



การบวกจำนวน ๒ จำนวนที่มีผลบวกไม่เกิน ๑๐

ชื่อ.....ชั้น.....เลขที่.....



คำชี้แจง : จงหาผลบวก

- | | | | | | |
|----|-----------|---|-----|-----------|---|
| ๑. | $7 + 0 =$ |  | ๖. | $4 + 3 =$ |  |
| ๒. | $4 + 1 =$ |  | ๗. | $3 + 4 =$ |  |
| ๓. | $2 + 3 =$ |  | ๘. | $3 + 5 =$ |  |
| ๔. | $7 + 1 =$ |  | ๙. | $2 + 7 =$ |  |
| ๕. | $7 + 2 =$ |  | ๑๐. | $1 + 7 =$ |  |



การบวกจำนวน ๒ จำนวนที่มีผลบวกไม่เกิน ๑๐


ชื่อ.....ชั้น.....เลขที่.....



คำชี้แจง : จงหาผลบวก

- ๑. 0 + 8 =
- ๒. 3 + 1 =
- ๓. 2 + 2 =
- ๔. 8 + 1 =
- ๕. 5 + 1 =

- ๖. 5 + 3 =
- ๗. 6 + 3 =
- ๘. 4 + 4 =
- ๙. 2 + 7 =
- ๑๐. 1 + 8 =



การบวกจำนวน ๒ จำนวนที่มีผลบวกไม่เกิน ๑๐

ชื่อ.....ชั้น.....เลขที่.....



คำชี้แจง : จงหาผลบวก

๑. $8 + 0 =$

๖. $4 + 3 =$

๒. $1 + 2 =$

๓. $6 + 3 =$

๓. $3 + 2 =$









๘. $4 + 5 =$

๔. $6 + 1 =$

๙. $3 + 5 =$


๕. $7 + 2 =$

๑๐. $1 + 8 =$

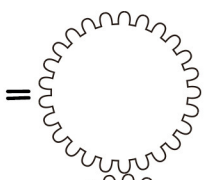
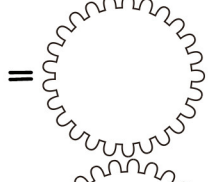
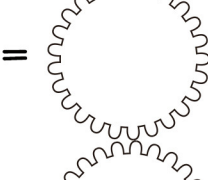
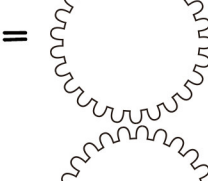



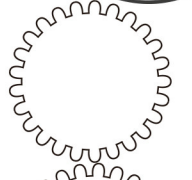
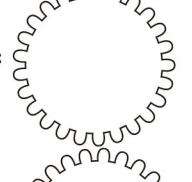
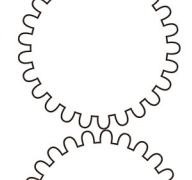
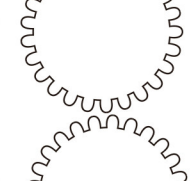
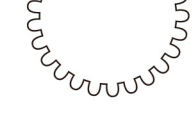
การบวกจำนวน ๒ จำนวนที่มีผลบวกไม่เกิน ๙






ชื่อ.....ชั้น.....เลขที่.....



คำชี้แจง : จงหาผลบวก

- ๑. ๐ + ๗ = 
- ๒. ๒ + ๒ = 
- ๓. ๑ + ๒ = 
- ๔. ๘ + ๑ = 
- ๕. ๗ + ๑ = 

- ๖. ๔ + ๒ = 
- ๗. ๓ + ๓ = 
- ๘. ๕ + ๔ = 
- ๙. ๒ + ๕ = 
- ๑๐. ๔ + ๕ = 



*ใช้เพื่อการศึกษาเท่านั้น




การบวกจำนวน ๒ จำนวนที่มีผลบวกไม่เกิน ๑๐

ชื่อ.....ชั้น.....เลขที่.....



คำชี้แจง : จงหาผลบวก


- | | | | | | |
|----|-----------|--|-----|-----------|--|
| ๑. | $9 + 0 =$ | | ๖. | $6 + 2 =$ | |
| ๒. | $3 + 2 =$ | | ๗. | $5 + 3 =$ | |
| ๓. | $2 + 1 =$ | | ๘. | $3 + 4 =$ | |
| ๔. | $7 + 1 =$ | | ๙. | $2 + 5 =$ | |
| ๕. | $6 + 1 =$ | | ๑๐. | $1 + 6 =$ | |













เพื่อพัฒนาทักษะการคิดเลขเร็ว
ชั้นประถมศึกษาปีที่ ๑



การบวกจำนวน ๒ จำนวนที่มีผลบวกไม่เกิน ๙

ชื่อ.....ชั้น.....เลขที่.....




คำชี้แจง : จงหาผลบวก

- | | | | | | |
|----|---------|---|-----|---------|---|
| ๑. | 0 + 9 = |  | ๖. | 4 + 2 = |  |
| ๒. | 2 + 3 = |  | ๗. | 3 + 4 = |  |
| ๓. | 4 + 1 = |  | ๘. | 5 + 4 = |  |
| ๔. | 8 + 1 = |  | ๙. | 3 + 5 = |  |
| ๕. | 5 + 2 = |  | ๑๐. | 3 + 6 = |  |



การบวกจำนวน ๒ จำนวนที่มีผลบวกไม่เกิน ๙

ชื่อ..... ชั้น..... เลขที่.....



คำชี้แจง : จงหาผลบวก

๑. $\begin{array}{r} 8 \\ + 0 \\ \hline \end{array}$

๒. $\begin{array}{r} 1 \\ + 3 \\ \hline \end{array}$


๓. $\begin{array}{r} 4 \\ + 1 \\ \hline \end{array}$

๔. $\begin{array}{r} 5 \\ + 1 \\ \hline \end{array}$

๕. $\begin{array}{r} 6 \\ + 2 \\ \hline \end{array}$

๖. $\begin{array}{r} 3 \\ + 3 \\ \hline \end{array}$





๗. $\begin{array}{r} 4 \\ + 4 \\ \hline \end{array}$



๘. $\begin{array}{r} 2 \\ + 4 \\ \hline \end{array}$

๙. $\begin{array}{r} 2 \\ + 6 \\ \hline \end{array}$

๑๐. $\begin{array}{r} 3 \\ + 6 \\ \hline \end{array}$




*ใช้เพื่อการศึกษาเท่านั้น



เพื่อพัฒนาทักษะการคิดเลขเร็ว
ชั้นประถมศึกษาปีที่ ๑

การบวกจำนวน ๒ จำนวนที่มีผลบวกไม่เกิน ๙

ชื่อ.....ชั้น.....เลขที่.....



คำชี้แจง : จงหาผลบวก

๑. $0 + 9 =$

๒. $3 + 1 =$

๓. $1 + 4 =$

๔. $5 + 2 =$

๕. $7 + 2 =$

๖. $5 + 3 =$

๗. $4 + 4 =$

๘. $2 + 6 =$

๙. $1 + 6 =$

๑๐. $2 + 7 =$

