

แบบฝึกเพื่อพัฒนาทักษะการคิดเลขเร็ว

ชั้นประถมศึกษาปีที่ 5

เรื่อง

อาหารที่ตัวตั้งมีหลายหลักตัวหามีหนึ่งหลัก



ชื่อ.....

เลขที่.....ห้อง.....

โรงเรียน.....





อาหารที่ตัวตั้งมีหลายหลักตัวหารมีหนึ่งหลัก

ชื่อ.....ชั้น.....เลขที่.....



คำชี้แจง : จงหาผลหาร

1.  $32 \div 4 =$

2.  $40 \div 5 =$

3.  $30 \div 4 =$

4.  $66 \div 2 =$

5.  $252 \div 6 =$

6.  $240 \div 4 =$

7.  $357 \div 7 =$

8.  $13 \div 2$  ได้

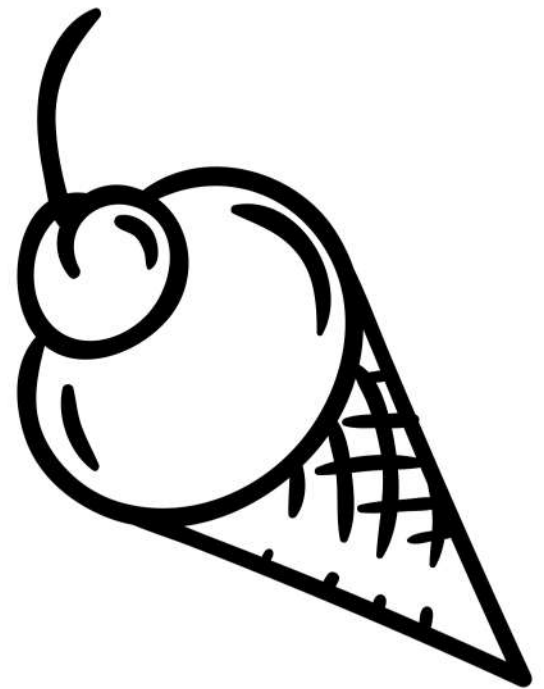
เศษ

9.  $97 \div 3$  ได้

เศษ

10.  $33 \div 2$  ได้

เศษ




อาหารที่ตัวตั้งมีหลายหลักตัวหารมีหนึ่งหลัก

ชื่อ.....ชั้น.....เลขที่.....



คำชี้แจง : จงหาผลหาร

- $14 \div 2 = \square$
- $30 \div 6 = \square$
- $60 \div 6 = \square$
- $56 \div 4 = \square$
- $280 \div 4 = \square$
- $162 \div 3 = \square$
- $152 \div 2 = \square$
- $17 \div 4$  ได้  $\square$
- $67 \div 3$  ได้  $\square$
- $55 \div 3$  ได้  $\square$



- เศษ  $\square$
- เศษ  $\square$
- เศษ  $\square$

\*ใช้เพื่อการศึกษาเท่านั้น





อาหารที่ตัวตั้งมีหลายหลักตัวหารมีหนึ่งหลัก

ชื่อ.....ชั้น.....เลขที่.....



คำชี้แจง : จงหาผลหาร

1.  $28 \div 4 =$
2.  $45 \div 5 =$
3.  $40 \div 2 =$
4.  $42 \div 2 =$
5.  $110 \div 5 =$
6.  $244 \div 4 =$
7.  $270 \div 3 =$
8.  $67 \div 6$  ได้
9.  $43 \div 3$  ได้
10.  $33 \div 8$  ได้



เศษ

เศษ

เศษ

อาหารที่ตัวตั้งมีหลายหลักตัวหารมีหนึ่งหลัก

ชื่อ.....ชั้น.....เลขที่.....



คำชี้แจง : จงหาผลหาร

1.  $36 \div 6 =$

2.  $55 \div 5 =$

3.  $49 \div 7 =$

4.  $66 \div 3 =$

5.  $246 \div 6 =$



6.  $154 \div 7 =$

7.  $240 \div 6 =$

8.  $18 \div 4$  ได้

9.  $78 \div 7$  ได้

10.  $46 \div 3$  ได้



เศษ

เศษ

เศษ




อาหารที่ตัวตั้งมีหลายหลักตัวหารมีหนึ่งหลัก

ชื่อ.....ชั้น.....เลขที่.....



คำชี้แจง : จงหาผลหาร

1.  $88 \div 8 =$
2.  $36 \div 4 =$
3.  $60 \div 6 =$
4.  $40 \div 5 =$
5.  $427 \div 7 =$
6.  $312 \div 6 =$
7.  $270 \div 3 =$
8.  $25 \div 3$  ได้
9.  $46 \div 4$  ได้
10.  $98 \div 4$  ได้



- เศษ
- เศษ
- เศษ

อาหารที่ตัวตั้งมีหลายหลักตัวหารมีหนึ่งหลัก

ชื่อ.....ชั้น.....เลขที่.....



คำชี้แจง : จงหาผลหาร

1.  $36 \div 6 =$
2.  $35 \div 5 =$
3.  $70 \div 7 =$
4.  $26 \div 2 =$
5.  $186 \div 6 =$
6.  $120 \div 2 =$
7.  $416 \div 8 =$
8.  $89 \div 8$  ได้  เศษ
9.  $86 \div 5$  ได้  เศษ
10.  $66 \div 7$  ได้  เศษ





ชุดที่  
**5**

แบบฝึก  
\*\*\*\*\*☆

เพื่อพัฒนาทักษะการคิดเลขเร็ว  
ชั้นประถมศึกษาปีที่ 5

หน้าที่  
**8**



อาหารที่ตัวตั้งมีหลายหลักตัวหารมีหนึ่งหลัก

ชื่อ.....ชั้น.....เลขที่.....



คำชี้แจง : จงหาผลหาร

- $45 \div 5 = \square$
- $44 \div 4 = \square$
- $90 \div 9 = \square$
- $56 \div 8 = \square$
- $180 \div 9 = \square$
- $205 \div 5 = \square$
- $378 \div 7 = \square$
- $85 \div 4 \text{ ได้ } \square$
- $58 \div 8 \text{ ได้ } \square$
- $68 \div 5 \text{ ได้ } \square$



- เศษ
- เศษ
- เศษ



