

แบบฝึกเพื่อพัฒนาทักษะการคิดเลขเร็ว  
 ชั้นประถมศึกษาปีที่ 3

เรื่อง

การลบจำนวนสองจำนวน(มีการกระจายหนึ่งหลัก)



ชื่อ.....

เลขที่.....ห้อง.....

โรงเรียน.....

แบบฝึก  
เพื่อพัฒนาทักษะการคิดเลขเร็ว  
ชั้นประถมศึกษาปีที่ 3

การลบจำนวนสองจำนวน(มีการกระจายหนึ่งหลัก)

ชื่อ.....ชั้น.....เลขที่.....



คำชี้แจง : จงหาผลลบ

1. 
$$\begin{array}{r} 420 \\ - 140 \\ \hline \end{array}$$

2. 
$$\begin{array}{r} 310 \\ - 140 \\ \hline \end{array}$$

3. 
$$\begin{array}{r} 240 \\ - 150 \\ \hline \end{array}$$

4. 
$$\begin{array}{r} 510 \\ - 320 \\ \hline \end{array}$$

5. 
$$\begin{array}{r} 1650 \\ - 370 \\ \hline \end{array}$$

6. 
$$\begin{array}{r} 2240 \\ - 510 \\ \hline \end{array}$$

7. 
$$\begin{array}{r} 2480 \\ - 530 \\ \hline \end{array}$$

8. 
$$\begin{array}{r} 2810 \\ - 1720 \\ \hline \end{array}$$

9. 
$$\begin{array}{r} 4108 \\ - 2302 \\ \hline \end{array}$$

10. 
$$\begin{array}{r} 4561 \\ - 2710 \\ \hline \end{array}$$



เพื่อพัฒนาทักษะการคิดเลขเร็ว  
ชั้นประถมศึกษาปีที่ 3

การลบจำนวนสองจำนวน(มีการกระจายหนึ่งหลัก)

ชื่อ.....ชั้น.....เลขที่.....

คำชี้แจง : จงหาผลลบ



1. 
$$\begin{array}{r} 500 \\ - 220 \\ \hline \end{array}$$

2. 
$$\begin{array}{r} 450 \\ - 380 \\ \hline \end{array}$$

3. 
$$\begin{array}{r} 270 \\ - 180 \\ \hline \end{array}$$

4. 
$$\begin{array}{r} 830 \\ - 450 \\ \hline \end{array}$$

5. 
$$\begin{array}{r} 2210 \\ - 190 \\ \hline \end{array}$$

6. 
$$\begin{array}{r} 3650 \\ - 920 \\ \hline \end{array}$$

7. 
$$\begin{array}{r} 3470 \\ - 670 \\ \hline \end{array}$$

8. 
$$\begin{array}{r} 3260 \\ - 670 \\ \hline \end{array}$$

9. 
$$\begin{array}{r} 5230 \\ - 4300 \\ \hline \end{array}$$

10. 
$$\begin{array}{r} 2160 \\ - 1300 \\ \hline \end{array}$$



เพื่อพัฒนาทักษะการคิดเลขเร็ว  
ชั้นประถมศึกษาปีที่ 3

การลบจำนวนสองจำนวน(มีการกระจายหนึ่งหลัก)

ชื่อ.....ชั้น.....เลขที่.....

คำชี้แจง : จงหาผลลบ



1. 
$$\begin{array}{r} 330 \\ - 150 \\ \hline \end{array}$$

2. 
$$\begin{array}{r} 380 \\ - 290 \\ \hline \end{array}$$

3. 
$$\begin{array}{r} 360 \\ - 180 \\ \hline \end{array}$$

4. 
$$\begin{array}{r} 920 \\ - 770 \\ \hline \end{array}$$

5. 
$$\begin{array}{r} 3840 \\ - 670 \\ \hline \end{array}$$

6. 
$$\begin{array}{r} 7138 \\ - 407 \\ \hline \end{array}$$

7. 
$$\begin{array}{r} 4670 \\ - 850 \\ \hline \end{array}$$

8. 
$$\begin{array}{r} 4230 \\ - 1510 \\ \hline \end{array}$$

9. 
$$\begin{array}{r} 3540 \\ - 1840 \\ \hline \end{array}$$

10. 
$$\begin{array}{r} 9275 \\ - 8540 \\ \hline \end{array}$$



แบบฝึก  
เพื่อพัฒนาทักษะการคิดเลขเร็ว  
ชั้นประถมศึกษาปีที่ 3

การลบจำนวนสองจำนวน(มีการกระจายหนึ่งหลัก)

ชื่อ.....ชั้น.....เลขที่.....



คำชี้แจง : จงหาผลลบ

1. 
$$\begin{array}{r} 410 \\ - 130 \\ \hline \end{array}$$

2. 
$$\begin{array}{r} 520 \\ - 350 \\ \hline \end{array}$$

3. 
$$\begin{array}{r} 240 \\ - 180 \\ \hline \end{array}$$

4. 
$$\begin{array}{r} 740 \\ - 150 \\ \hline \end{array}$$

5. 
$$\begin{array}{r} 4650 \\ - 260 \\ \hline \end{array}$$

6. 
$$\begin{array}{r} 3660 \\ - 710 \\ \hline \end{array}$$

7. 
$$\begin{array}{r} 3750 \\ - 920 \\ \hline \end{array}$$

8. 
$$\begin{array}{r} 5420 \\ - 2820 \\ \hline \end{array}$$

9. 
$$\begin{array}{r} 4360 \\ - 1950 \\ \hline \end{array}$$

10. 
$$\begin{array}{r} 3420 \\ - 1820 \\ \hline \end{array}$$



การลบจำนวนสองจำนวน(มีการกระจายหนึ่งหลัก)

ชื่อ.....ชั้น.....เลขที่.....



คำชี้แจง : จงหาผลลบ

1. 
$$\begin{array}{r} 540 \\ - 370 \\ \hline \end{array}$$

2. 
$$\begin{array}{r} 620 \\ - 370 \\ \hline \end{array}$$

3. 
$$\begin{array}{r} 330 \\ - 180 \\ \hline \end{array}$$

4. 
$$\begin{array}{r} 570 \\ - 280 \\ \hline \end{array}$$

5. 
$$\begin{array}{r} 3760 \\ - 390 \\ \hline \end{array}$$

6. 
$$\begin{array}{r} 7640 \\ - 900 \\ \hline \end{array}$$

7. 
$$\begin{array}{r} 4430 \\ - 720 \\ \hline \end{array}$$

8. 
$$\begin{array}{r} 6340 \\ - 3530 \\ \hline \end{array}$$

9. 
$$\begin{array}{r} 5170 \\ - 4600 \\ \hline \end{array}$$

10. 
$$\begin{array}{r} 3580 \\ - 2930 \\ \hline \end{array}$$



เพื่อพัฒนาทักษะการคิดเลขเร็ว  
ชั้นประถมศึกษาปีที่ 3

การลบจำนวนสองจำนวน(มีการกระจายหนึ่งหลัก)

ชื่อ.....ชั้น.....เลขที่.....

คำชี้แจง : จงหาผลลบ



1. 
$$\begin{array}{r} 560 \\ - 280 \\ \hline \end{array}$$

2. 
$$\begin{array}{r} 430 \\ - 160 \\ \hline \end{array}$$

3. 
$$\begin{array}{r} 240 \\ - 150 \\ \hline \end{array}$$

4. 
$$\begin{array}{r} 630 \\ - 440 \\ \hline \end{array}$$

5. 
$$\begin{array}{r} 1560 \\ - 380 \\ \hline \end{array}$$




6. 
$$\begin{array}{r} 8270 \\ - 860 \\ \hline \end{array}$$

7. 
$$\begin{array}{r} 8420 \\ - 720 \\ \hline \end{array}$$

8. 
$$\begin{array}{r} 6350 \\ - 4820 \\ \hline \end{array}$$

9. 
$$\begin{array}{r} 8360 \\ - 7500 \\ \hline \end{array}$$

10. 
$$\begin{array}{r} 9160 \\ - 8740 \\ \hline \end{array}$$



เพื่อพัฒนาทักษะการคิดเลขเร็ว  
ชั้นประถมศึกษาปีที่ 3

การลบจำนวนสองจำนวน(มีการกระจายหนึ่งหลัก)

ชื่อ.....ชั้น.....เลขที่.....

คำชี้แจง : จงหาผลลบ



1. 
$$\begin{array}{r} 630 \\ - 260 \\ \hline \end{array}$$

2. 
$$\begin{array}{r} 560 \\ - 380 \\ \hline \end{array}$$

3. 
$$\begin{array}{r} 730 \\ - 150 \\ \hline \end{array}$$

4. 
$$\begin{array}{r} 650 \\ - 460 \\ \hline \end{array}$$

5. 
$$\begin{array}{r} 6880 \\ - 460 \\ \hline \end{array}$$


6. 
$$\begin{array}{r} 3590 \\ - 700 \\ \hline \end{array}$$

7. 
$$\begin{array}{r} 2720 \\ - 820 \\ \hline \end{array}$$

8. 
$$\begin{array}{r} 6420 \\ - 4820 \\ \hline \end{array}$$

9. 
$$\begin{array}{r} 5470 \\ - 2500 \\ \hline \end{array}$$

10. 
$$\begin{array}{r} 9420 \\ - 6620 \\ \hline \end{array}$$





ชุดที่  
7

แบบฝึก  
○○○○○○○○○○○○○○○ ☆

เพื่อพัฒนาทักษะการคิดเลขเร็ว  
ชั้นประถมศึกษาปีที่ 3

หน้าที่  
8

การลบจำนวนสองจำนวน(มีการกระจายหนึ่งหลัก)

ชื่อ.....ชั้น.....เลขที่.....



คำชี้แจง : จงหาผลลบ

1. 
$$\begin{array}{r} 720 \\ - 670 \\ \hline \end{array}$$

2. 
$$\begin{array}{r} 730 \\ - 490 \\ \hline \end{array}$$

3. 
$$\begin{array}{r} 700 \\ - 110 \\ \hline \end{array}$$

4. 
$$\begin{array}{r} 800 \\ - 680 \\ \hline \end{array}$$

5. 
$$\begin{array}{r} 7320 \\ - 180 \\ \hline \end{array}$$


6. 
$$\begin{array}{r} 4350 \\ - 820 \\ \hline \end{array}$$

7. 
$$\begin{array}{r} 2560 \\ - 730 \\ \hline \end{array}$$

8. 
$$\begin{array}{r} 6270 \\ - 4620 \\ \hline \end{array}$$

9. 
$$\begin{array}{r} 7320 \\ - 2600 \\ \hline \end{array}$$

10. 
$$\begin{array}{r} 6390 \\ - 3730 \\ \hline \end{array}$$



\*ใช้เพื่อการศึกษาเท่านั้น



ครูอัปเดตดอทคอม  
kroupdatedotcom

แบบฝึก  
เพื่อพัฒนาทักษะการคิดเลขเร็ว  
ชั้นประถมศึกษาปีที่ 3

การลบจำนวนสองจำนวน(มีการกระจายหนึ่งหลัก)

ชื่อ.....ชั้น.....เลขที่.....



คำชี้แจง : จงหาผลลบ

1. 
$$\begin{array}{r} 810 \\ - 420 \\ \hline \end{array}$$

2. 
$$\begin{array}{r} 820 \\ - 330 \\ \hline \end{array}$$

3. 
$$\begin{array}{r} 630 \\ - 280 \\ \hline \end{array}$$

4. 
$$\begin{array}{r} 930 \\ - 890 \\ \hline \end{array}$$

5. 
$$\begin{array}{r} 8540 \\ - 260 \\ \hline \end{array}$$



6. 
$$\begin{array}{r} 4270 \\ - 820 \\ \hline \end{array}$$

7. 
$$\begin{array}{r} 2420 \\ - 710 \\ \hline \end{array}$$

8. 
$$\begin{array}{r} 6340 \\ - 2730 \\ \hline \end{array}$$

9. 
$$\begin{array}{r} 5430 \\ - 3700 \\ \hline \end{array}$$

10. 
$$\begin{array}{r} 6240 \\ - 5840 \\ \hline \end{array}$$



เพื่อพัฒนาทักษะการคิดเลขเร็ว  
ชั้นประถมศึกษาปีที่ 3

การลบจำนวนสองจำนวน(มีการกระจายหนึ่งหลัก)

ชื่อ.....ชั้น.....เลขที่.....



คำชี้แจง : จงหาผลลบ

1. 
$$\begin{array}{r} 940 \\ - 880 \\ \hline \end{array}$$

2. 
$$\begin{array}{r} 750 \\ - 380 \\ \hline \end{array}$$

3. 
$$\begin{array}{r} 680 \\ - 590 \\ \hline \end{array}$$

4. 
$$\begin{array}{r} 680 \\ - 490 \\ \hline \end{array}$$

5. 
$$\begin{array}{r} 2930 \\ - 170 \\ \hline \end{array}$$

6. 
$$\begin{array}{r} 3290 \\ - 610 \\ \hline \end{array}$$

7. 
$$\begin{array}{r} 5130 \\ - 920 \\ \hline \end{array}$$

8. 
$$\begin{array}{r} 7320 \\ - 4510 \\ \hline \end{array}$$

9. 
$$\begin{array}{r} 6360 \\ - 5500 \\ \hline \end{array}$$

10. 
$$\begin{array}{r} 8140 \\ - 3220 \\ \hline \end{array}$$

