

แบบฝึกเพื่อพัฒนาทักษะการคิดเลขเร็ว

ชั้นประถมศึกษาปีที่ 6

เรื่อง

การบวกทศนิยมไม่เกินสามตำแหน่ง



ชื่อ.....

เลขที่.....ห้อง.....

โรงเรียน.....

$$f(x) = ?$$



เพื่อพัฒนาทักษะการคิดเลขเร็ว
ชั้นประถมศึกษาปีที่ 6

การบวกทศนิยมไม่เกินสามตำแหน่ง

ชื่อ.....ชั้น.....เลขที่.....



คำชี้แจง : จงหาผลบวก

1. $0.5 + 0.4 =$

2. $1.2 + 0.5 =$

3. $1.3 + 0.6 =$

4. $1.5 + 0.3 =$

5. $3.24 + 0.55 =$

6. $3.15 + 0.41 =$

7. $2.32 + 1.24 =$

8. $4.251 + 0.321 =$

9. $4.312 + 0.373 =$

10. $5.452 + 4.137 =$



เพื่อพัฒนาทักษะการคิดเลขเร็ว
ชั้นประถมศึกษาปีที่ 6


การบวกทศนิยมไม่เกินสามตำแหน่ง

ชื่อ.....ชั้น.....เลขที่.....



คำชี้แจง : จงหาผลบวก

1. $0.1 + 0.2 =$
2. $1.4 + 0.3 =$
3. $1.5 + 1.3 =$
4. $2.3 + 1.2 =$
5. $2.12 + 0.34 =$
6. $3.43 + 0.22 =$
7. $3.27 + 1.12 =$
8. $3.763 + 1.224 =$
9. $4.578 + 2.311 =$
10. $5.178 + 3.321 =$



เพื่อพัฒนาทักษะการคิดเลขเร็ว
ชั้นประถมศึกษาปีที่ 6

การบวกทศนิยมไม่เกินสามตำแหน่ง

ชื่อ.....ชั้น.....เลขที่.....



คำชี้แจง : จงหาผลบวก

1. $0.5 + 0.3 =$

2. $1.4 + 1.3 =$

3. $1.4 + 2.4 =$

4. $2.2 + 2.4 =$

5. $2.42 + 2.45 =$




6. $3.51 + 2.34 =$

7. $3.47 + 3.32 =$

8. $5.323 + 4.344 =$

9. $3.135 + 3.413 =$

10. $5.423 + 0.123 =$



เพื่อพัฒนาทักษะการคิดเลขเร็ว
ชั้นประถมศึกษาปีที่ 6

การบวกทศนิยมไม่เกินสามตำแหน่ง

ชื่อ.....ชั้น.....เลขที่.....



คำชี้แจง : จงหาผลบวก

1. $1.1 + 1.5 =$

2. $1.3 + 1.6 =$

3. $1.6 + 2.1 =$

4. $2.3 + 2.4 =$

5. $2.16 + 0.22 =$

6. $3.45 + 2.43 =$

7. $3.46 + 2.52 =$

8. $4.246 + 4.632 =$

9. $5.352 + 4.326 =$

10. $4.235 + 5.313 =$




การบวกทศนิยมไม่เกินสามตำแหน่ง

ชื่อ.....ชั้น.....เลขที่.....



คำชี้แจง : จงหาผลบวก

1. $0.4 + 0.8 =$
2. $0.4 + 2.8 =$
3. $1.5 + 1.7 =$
4. $2.6 + 0.7 =$
5. $0.11 + 0.09 =$
6. $0.16 + 0.05 =$
7. $0.12 + 0.18 =$
8. $0.003 + 0.078 =$
9. $0.206 + 0.264 =$
10. $0.123 + 0.208 =$



การบวกทศนิยมไม่เกินสามตำแหน่ง

ชื่อ.....ชั้น.....เลขที่.....



คำชี้แจง : จงหาผลบวก

1. $1.7 + 0.3 =$

2. $2.1 + 0.9 =$

3. $2.3 + 0.8 =$

4. $0.9 + 9.1 =$

5. $0.04 + 0.07 =$



6. $0.24 + 0.58 =$

7. $0.23 + 0.08 =$

8. $0.009 + 0.253 =$

9. $0.004 + 0.068 =$

10. $0.057 + 0.218 =$



การบวกทศนิยมไม่เกินสามตำแหน่ง

ชื่อ.....ชั้น.....เลขที่.....



คำชี้แจง : จงหาผลบวก

1. $0.8 + 0.6 =$

2. $1.2 + 0.9 =$

3. $1.3 + 1.8 =$

4. $2.7 + 0.6 =$

5. $0.19 + 0.04 =$



6. $0.27 + 0.07 =$

7. $0.18 + 0.03 =$

8. $0.021 + 0.093 =$

9. $0.076 + 0.105 =$

10. $0.527 + 0.006 =$



การบวกทศนิยมไม่เกินสามตำแหน่ง

ชื่อ.....ชั้น.....เลขที่.....



คำชี้แจง : จงหาผลบวก

1. $0.5 + 0.6 =$
2. $2.4 + 0.9 =$
3. $2.9 + 0.7 =$
4. $2.2 + 0.8 =$
5. $0.15 + 0.08 =$
6. $0.24 + 0.07 =$
7. $0.14 + 0.18 =$
8. $0.005 + 0.108 =$
9. $0.071 + 0.132 =$
10. $0.081 + 0.423 =$

