

แบบฝึกเพื่อพัฒนาทักษะการคิดเลขเร็ว

ชั้นประถมศึกษาปีที่ 6

เรื่อง

การบวกทศนิยมไม่เกินสองตำแหน่ง
กับทศนิยมไม่เกินสามตำแหน่ง




ชื่อ.....

เลขที่.....ห้อง.....

โรงเรียน.....

$$f(x)=?$$



เพื่อพัฒนาทักษะการคิดเลขเร็ว
ชั้นประถมศึกษาปีที่ 6


การบวกทศนิยมไม่เกินสองตำแหน่ง
กับทศนิยมไม่เกินสามตำแหน่ง

ชื่อ.....ชั้น.....เลขที่.....



คำชี้แจง : จงหาผลบวก

1. $0.1 + 0.16 =$
2. $0.7 + 0.03 =$
3. $0.2 + 0.24 =$
4. $0.4 + 0.59 =$
5. $0.2 + 0.008 =$
6. $0.3 + 0.018 =$
7. $0.8 + 0.104 =$
8. $0.02 + 0.203 =$
9. $0.21 + 0.004 =$
10. $0.13 + 0.056 =$



เพื่อพัฒนาทักษะการคิดเลขเร็ว
ชั้นประถมศึกษาปีที่ 6

การบวกทศนิยมไม่เกินสองตำแหน่ง
กับทศนิยมไม่เกินสามตำแหน่ง

ชื่อ.....ชั้น.....เลขที่.....



คำชี้แจง : จงหาผลบวก

1. $0.2 + 0.41 =$

2. $0.8 + 0.01 =$

3. $0.4 + 0.27 =$

4. $0.3 + 0.35 =$

5. $0.9 + 0.005 =$



6. $0.7 + 0.145 =$

7. $0.5 + 0.036 =$

8. $0.03 + 0.024 =$

9. $0.14 + 0.605 =$

10. $0.92 + 0.023 =$



เพื่อพัฒนาทักษะการคิดเลขเร็ว
ชั้นประถมศึกษาปีที่ 6


การบวกทศนิยมไม่เกินสองตำแหน่ง
กับทศนิยมไม่เกินสามตำแหน่ง

ชื่อ.....ชั้น.....เลขที่.....



คำชี้แจง : จงหาผลบวก

- 1. $0.3 + 0.06 =$
- 2. $0.9 + 0.08 =$
- 3. $0.4 + 0.17 =$
- 4. $0.4 + 1.01 =$
- 5. $0.5 + 0.214 =$
- 6. $0.6 + 0.008 =$
- 7. $0.7 + 0.012 =$
- 8. $0.01 + 0.013 =$
- 9. $0.05 + 0.032 =$
- 10. $0.19 + 0.102 =$



เพื่อพัฒนาทักษะการคิดเลขเร็ว
ชั้นประถมศึกษาปีที่ 6

การบวกทศนิยมไม่เกินสองตำแหน่ง
กับทศนิยมไม่เกินสามตำแหน่ง

ชื่อ.....ชั้น.....เลขที่.....



คำชี้แจง : จงหาผลบวก

1. $0.4 + 0.09 =$

2. $0.3 + 0.05 =$

3. $0.6 + 0.23 =$

4. $0.2 + 0.36 =$

5. $0.3 + 0.007 =$

6. $0.3 + 0.018 =$

7. $0.9 + 0.062 =$

8. $0.02 + 0.076 =$

9. $0.97 + 0.018 =$

10. $0.81 + 0.176 =$



เพื่อพัฒนาทักษะการคิดเลขเร็ว
ชั้นประถมศึกษาปีที่ 6

การบวกทศนิยมไม่เกินสองตำแหน่ง
กับทศนิยมไม่เกินสามตำแหน่ง

ชื่อ.....ชั้น.....เลขที่.....



คำชี้แจง : จงหาผลบวก

1. $0.8 + 0.02 =$

2. $0.3 + 0.16 =$

3. $0.1 + 1.08 =$

4. $0.7 + 1.03 =$

5. $0.2 + 0.005 =$



6. $0.5 + 0.023 =$

7. $0.6 + 0.018 =$

8. $0.93 + 0.001 =$

9. $0.35 + 0.007 =$

10. $0.04 + 0.019 =$



เพื่อพัฒนาทักษะการคิดเลขเร็ว
ชั้นประถมศึกษาปีที่ 6

การบวกทศนิยมไม่เกินสองตำแหน่ง
กับทศนิยมไม่เกินสามตำแหน่ง

ชื่อ.....ชั้น.....เลขที่.....



คำชี้แจง : จงหาผลบวก

1. $0.1 + 0.95 =$

2. $0.9 + 0.28 =$

3. $0.6 + 4.83 =$

4. $1.7 + 0.63 =$

5. $0.4 + 0.716 =$

6. $0.7 + 0.547 =$

7. $1.4 + 0.809 =$

8. $0.08 + 0.056 =$

9. $0.18 + 0.034 =$

10. $0.85 + 0.307 =$



เพื่อพัฒนาทักษะการคิดเลขเร็ว
ชั้นประถมศึกษาปีที่ 6

การบวกทศนิยมไม่เกินสองตำแหน่ง
กับทศนิยมไม่เกินสามตำแหน่ง

ชื่อ.....ชั้น.....เลขที่.....



คำชี้แจง : จงหาผลบวก

1. $0.2 + 0.91 =$

2. $0.4 + 0.73 =$

3. $1.3 + 0.89 =$

4. $4.6 + 0.75 =$

5. $0.5 + 0.742 =$

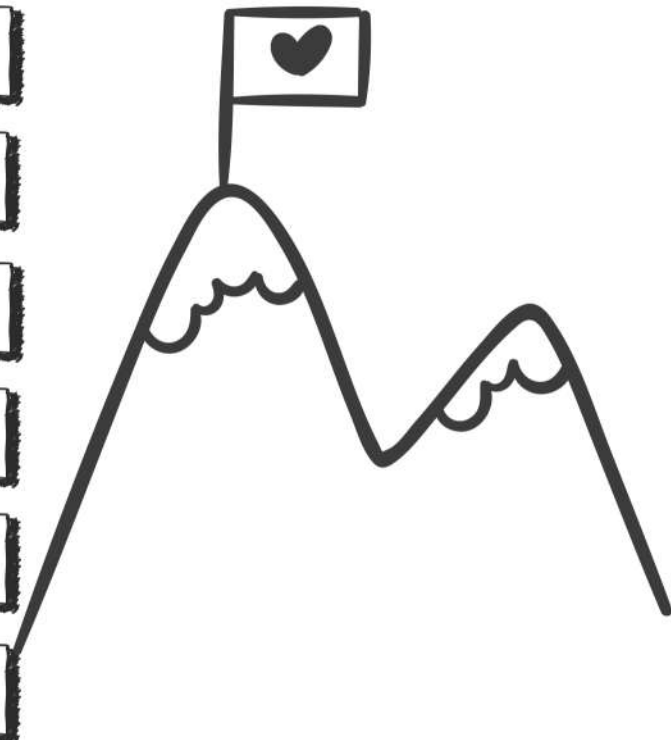
6. $0.7 + 0.413 =$

7. $1.8 + 0.756 =$

8. $0.07 + 0.091 =$

9. $0.94 + 0.062 =$

10. $0.35 + 0.087 =$



การบวกทศนิยมไม่เกินสองตำแหน่ง
กับทศนิยมไม่เกินสามตำแหน่ง

ชื่อ.....ชั้น.....เลขที่.....



คำชี้แจง : จงหาผลบวก

1. $0.9 + 0.28 =$

2. $0.4 + 0.63 =$

3. $0.2 + 6.95 =$

4. $0.8 + 1.21 =$

5. $0.1 + 0.942 =$


6. $0.6 + 0.678 =$

7. $1.2 + 0.943 =$

8. $0.04 + 0.078 =$

9. $0.03 + 0.084 =$

10. $0.29 + 0.028 =$



เพื่อพัฒนาทักษะการคิดเลขเร็ว
ชั้นประถมศึกษาปีที่ 6

การบวกทศนิยมไม่เกินสองตำแหน่ง
กับทศนิยมไม่เกินสามตำแหน่ง

ชื่อ.....ชั้น.....เลขที่.....



คำชี้แจง : จงหาผลบวก

1. $0.3 + 0.84 =$
2. $0.5 + 0.56 =$
3. $1.2 + 0.95 =$
4. $3.9 + 0.26 =$
5. $0.5 + 0.802 =$
6. $0.3 + 0.805 =$
7. $1.3 + 0.862 =$
8. $0.71 + 0.406 =$
9. $0.71 + 0.537 =$
10. $0.94 + 0.201 =$



การบวกทศนิยมไม่เกินสองตำแหน่ง
กับทศนิยมไม่เกินสามตำแหน่ง

ชื่อ.....ชั้น.....เลขที่.....



คำชี้แจง : จงหาผลบวก

1. $0.7 + 3.37 =$

2. $1.9 + 0.15 =$

3. $2.8 + 0.34 =$

4. $3.9 + 0.27 =$

5. $0.8 + 0.703 =$

6. $0.7 + 0.635 =$

7. $1.7 + 0.523 =$

8. $0.01 + 0.093 =$

9. $0.06 + 0.051 =$

10. $0.29 + 0.651 =$

